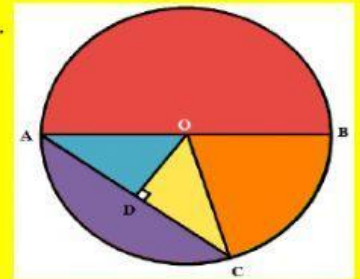


SOAL MATEMATIKA KELAS VI  
BAB LINGKARAN

NAMA :

1. Berdasarkan gambar di bawah, yang tidak termasuk jari-jari adalah ....

A. OA  
B. OC  
C. OD  
D. OB



2. Berdasarkan gambar di atas, garis AB dinamakan ....

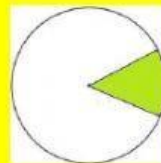
A. Apotema  
B. Tali busur  
C. Busur  
D. Diameter

3. Berdasarkan gambar di atas, garis lurus AC dinamakan ...

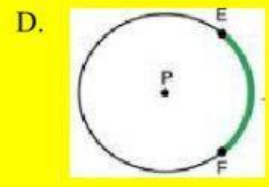
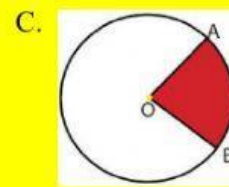
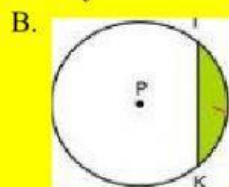
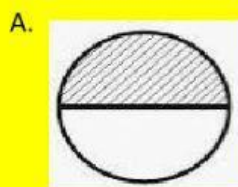
A. Apotema  
B. Tali busur  
C. Diameter  
D. Jari-jari

4. Bagian yang berwarna hijau merupakan ...

A. busur lingkaran  
B. juring lingkaran  
C. tembereng  
D. tali busur

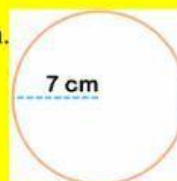


5. Gambar berikut ini yang menunjukkan tembereng adalah ...



6. Keliling lingkaran di samping adalah ..... cm.

A. 7  
B. 14  
C. 22  
D. 44



7. Keliling lingkaran di samping adalah ..... cm.

A. 22  
B. 44  
C. 88  
D. 172



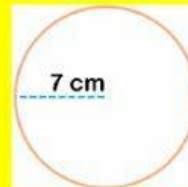
8. Keliling lingkaran berikut adalah ..... cm.

A. 44  
B. 88  
C. 132  
D. 176



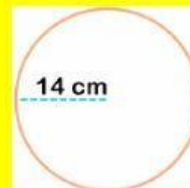
9. Luas lingkaran gambar berikut adalah ..... cm

A. 88  
B. 110  
C. 132  
D. 154



10. Luas lingkaran berikut adalah ..... cm.

A. 616  
B. 434  
C. 848  
D. 172



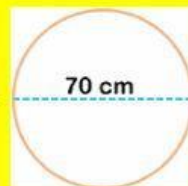
11. Luas lingkaran berikut adalah ... cm.

A. 132  
B. 388  
C. 1386  
D. 1768



12. Keliling lingkaran di atas adalah ... cm.

A. 110  
B. 220  
C. 330  
D. 440



13. Sebuah lingkaran mempunyai jari-jari sebesar 10 cm. Berapakah luas lingkaran tersebut?

A. 315  
B. 341  
C. 314  
D. 413

14. Sebuah lingkaran mempunyai jari-jari 10 cm. Keliling lingkaran tersebut adalah ... .

A. 31,4  
B. 62,8  
C. 314  
D. 628

15. Sebuah lingkaran mempunyai keliling 628 cm. Jari-jari lingkaran tersebut adalah ... .

A. 1  
B. 10  
C. 100  
D. 1000