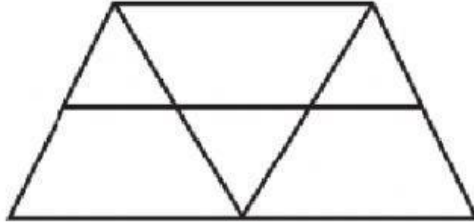
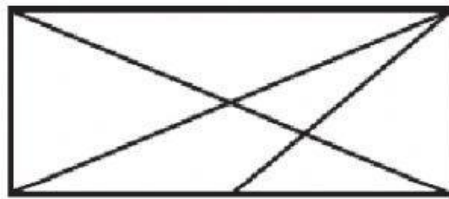


CONTEO DE TRIÁNGULOS

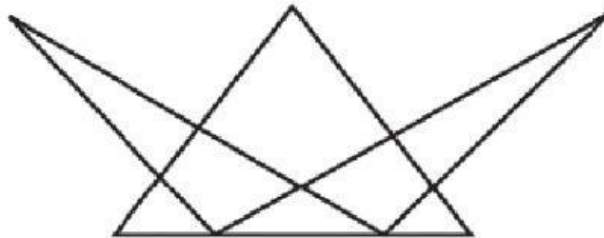
- 1 ¿Cuántos triángulos como máximo observas?



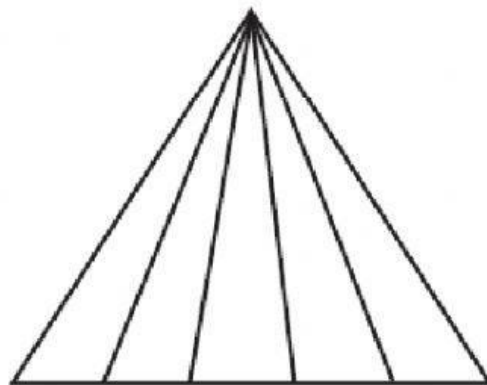
- 2 ¿Cuántos triángulos como máximo observas?



- 3 ¿Cuántos triángulos como máximo observas?

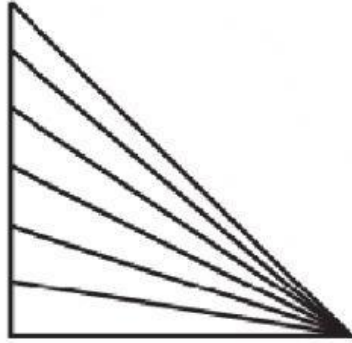


- 4 ¿Cuántos triángulos en total hay en la siguiente figura?



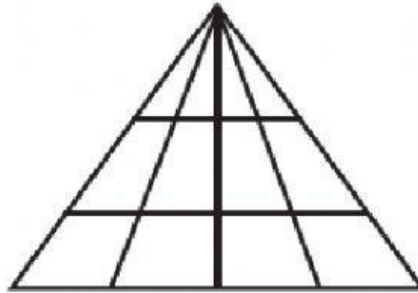
5

¿Cuántos triángulos en total hay en la siguiente figura?



6

¿Cuántos triángulos en total hay en la siguiente figura?



7

¿Cuántos triángulos en total hay en la siguiente figura?

