



PEMERINTAH PROVINSI KALIMANTAN TENGAH  
DINAS PENDIDIKAN  
SMK NEGERI 2 BUNTOK





Jalan: Soekarno-Hatta Sababilah -Barito Selatan Prov. Kalimantan Tengah Kode Pos:73715  
No. Kontak : 081349415297 web:www.smkn2buntok.sch.id Email: smkn2buntok@gmail.com

PENILAIAN HARIAN KD 3.15. MENGANALISIS STRUKTUR GEOLOGI

Mata Pelajaran : Pemetaan Geologi  
Hari / Tanggal : Selasa / 20 Oktober 2020  
Kelas : XII Geologi Pertambangan

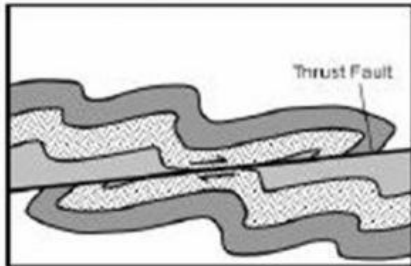
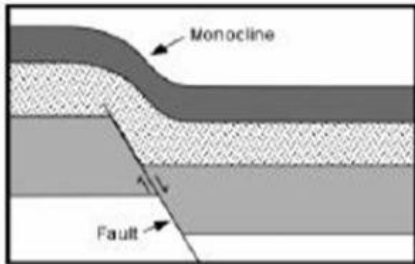
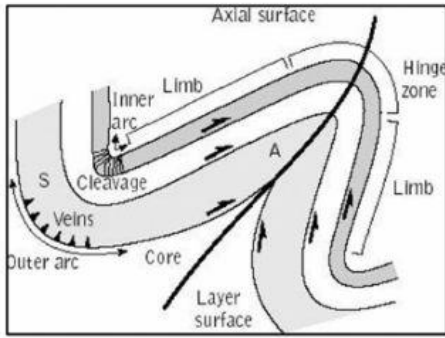
Nama  
Kelas

A. Jawablah soal uraian berikut dengan tepat dan benar

NASKAH SOAL	POIN
1. Buatlah uraian untuk menjelaskan definisi geologi struktur	5
2. Buatlah uraian tujuan mempelajari geologi struktur	10
3. Pada gambar berikut adalah kenampakan kekar dilapangan. Sebutkan nama jenis kekar dan buatlah analisa dari gambar tersebut    	15

4. Buatlah analisa dari gambar berikut mengenai hubungan lipatan dan patahan

25



5. Patahan / sesar adalah struktur rekahan yang telah mengalami pergeseran. Umumnya disertai oleh struktur yang lain seperti lipatan, rekahan, buatlah uraian indikasi sesar dilapangan

10

6. Pada gambar berikut adalah kenampakan kekar dilapangan. Sebutkan nama jenis kekar dan buatlah analisa dari gambar tersebut

35

