


































# DESAFÍA TU HABILIDAD

## 1.- Observa el gráfico y responde:

| Carros vendidos |   |       |
|-----------------|---|-------|
| Meses           |  = 10 autos  | Total |
| Abril           |      |       |
| Mayo            |     |       |
| Junio           |       |       |
| Julio           |      |       |

- Durante los tres primeros meses se vendieron  carros.
- En el mes de  se vendieron más autos.
- En el mes de  se vendieron menos autos.
- La diferencia de autos vendidos entre el mes de mayo y junio es de  carros.
- Durante los meses de junio y julio se vendieron  carros.

## 2.- Los alumnos de Educación Primaria de una Institución Educativa, se van de paseo al Parque de las Leyendas. Completa el siguiente pictograma:

| Grado    | Cada  o  = 5 alumnos  | Niñas | Niños | Total |
|----------|---|-------|-------|-------|
| 1° grado |         |       |       |       |
| 2° grado |         |       |       |       |
| 3° grado |        |       |       |       |
| 4° grado |      |       |       |       |
| 5° grado |     |       |       |       |
| 6° grado |        |       |       |       |
| Total    |   |       |       |       |

### Responde:

- ¿Cuántos alumnos fueron de paseo?
- ¿Cuántos niños fueron de paseo?
- ¿En qué grado fueron más alumnos?
- ¿En qué grado fueron menos alumnos?





### 3. Un comerciante tiene en su tienda, los siguientes productos:

| Productos | Cada arroz azúcar fideos leche representa 10 de ellos | Total |
|-----------|---|-------|
| Azúcar    | arroz arroz arroz arroz                               |       |
| Arroz     | azúcar azúcar azúcar azúcar azúcar azúcar azúcar      |       |
| Aceite    | leche leche leche leche leche leche                   |       |
| Fideos    | fideos fideos fideos fideos fideos                    |       |
| Leche     | leche leche leche leche leche leche leche leche leche |       |
| Total     |   |       |

#### Responde:

- ¿Cuántos productos tiene en total?
- ¿Cuántos tarros de leche más que sacos de arroz hay?
- ¿Qué producto tiene en menor cantidad, y cuánto?
- ¿Qué producto tiene en mayor cantidad, y cuánto?


# FELICITACIONES