

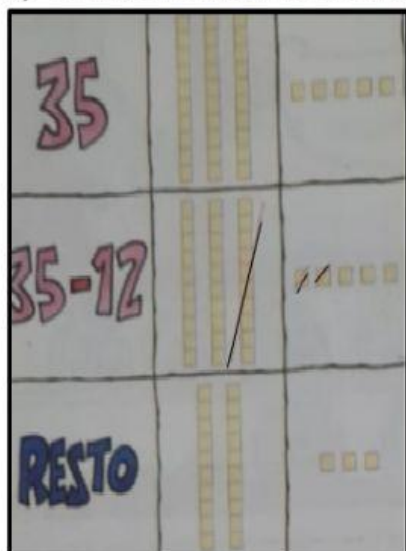


MATEMÁTICA - SUBTRAÇÃO



PAULO TEM 35 FIGURINHAS PARA COLAR EM SEU ÁLBUM . ELE JÁ COLOU 12. QUANTAS FIGURINHAS AINDA FALTAM COLAR?

A)- USANDO MATERIAL DOURADO



B)- USANDO O QVL (QUADRO VALOR DE LUGAR)

D	U	DECOMPONDO OS NÚMEROS
3	5	$30 + 5$
-1	2	$- 10 + 2$
2	3	$20 + 3$



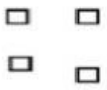
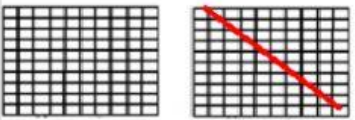


C)- NA FORMA ABREVIADA

$$\begin{array}{r} \text{D U} \\ 35 \\ - 12 \\ \hline 23 \end{array} \quad \begin{array}{l} \text{MINUENDO} \\ \text{SUBTRAENDO} \\ \text{RESTO} \end{array}$$

AGORA VAMOS TENTAR RESOLVER ESSE PROBLEMA.

A TURMA DO 2º ANO A DA ESCOLA CLASSE 19 PARTICIPOU DE UMA EXPOSIÇÃO DE DOBRADURAS. A PROFESSORA VERGÍNIA HAVIA SEPARADO 264 FOLHAS DE DOBRADURAS PARA O TRABALHO DE TODOS OS ALUNOS DA CLASSE. FORAM USADAS 152 FOLHAS. QUANTAS SOBRARAM? LEMBRANDO 1 PLACA É IGUAL 100 UNIDADES = 1 CENTENA; 1 BARRA É IGUAL 10 UNIDADES = 1 DEZENA.

USANDO O MATERIAL DOURADO.

264			
264 - 152			
RESTO			

A) REGISTRANDO A OPERAÇÃO NO QUADRO VALOR DE LUGAR

C	D	U		DECOMPONDO OS NÚMEROS
2	6	4		$200 + 60 + 4$
-1	5	2		$100 + 50 + 2$

B) FORMA ABREVIADA

C	D	U
2	6	4
-1	5	2

ENTÃO SOBRARAM _____ FOLHAS.

NA SUBTRAÇÃO QUE VOCÊ ACABOU DE EFETUAR, ADICIONE O SUBTRAENDO E O RESTO E COMPARE O RESULTADO COM O MINUENDO.

A) - O QUE VOCÊ VERIFICOU? _____.

B) PARA VERIFICAR SE A SUBTRAÇÃO ESTÁ CORRETA, VOCÊ PODERÁ DESFAZER A OPERAÇÃO.

$$\begin{array}{r}
 264 \\
 -152 \\
 \hline
 112
 \end{array}
 \qquad
 \begin{array}{r}
 152 \\
 +112 \\
 \hline
 264
 \end{array}$$

SUBTRAENDO + RESTO =
MINUENDO

$$\begin{array}{r}
 264 \\
 -152 \\
 \hline
 112
 \end{array}
 \qquad
 \begin{array}{r}
 264 \\
 -112 \\
 \hline
 152
 \end{array}$$

MINUENDO - RESTO =
SUBTRAENDO

DESCUBRA O TERMO QUE FALTA EM CADA UMA DAS OPERAÇÕES ABAIXO:

A)- O MINUENDO É 40 E O SUBTRAENDO É 10. O RESTO ENTÃO É: _____

B) - O SUBTRAENDO É 12 O RESTO É 15. O MINUENDO ENTÃO É: _____

EFETUE AS OPERAÇÕES:

45 - 20 =	68 - 30 =	95 - 14 =
-----------	-----------	-----------