




**PENILAIAN TENGAH SEMESTER GANJIL**  
**MADRASAH IBTIDAIYAH AN-NOOR**  
 KARANGASRI NGAWI






Jalan Sukowati no. 40 karangasri Ngawi Email : misannoorkarangasri0012@gmail.com


**SOAL MATEMATIKA KELAS 1**


**I. Pilihlah salah satu jawaban yang paling benar!**





1.  Jumlah segitiga di samping adalah ....
- 4
  - 5
  - 6

2.  Nama bilangan di samping adalah ....
- Tujuh
  - Delapan
  - Sembilan

3.  ..... 
- Perbandingan yang tepat dari dua bilangan tersebut adalah ....
- Lebih dari
  - Kurang dari
  - Sama dengan

4. 
- Bilangan di atas jika diurutkan dari yang **terkecil** adalah ....
- 5, 4, 3, 2, 1
  - 4, 5, 2, 3, 1
  - 1, 2, 3, 4, 5

5. 
- Bilangan berikut jika diurutkan dari yang **terbesar** menjadi ....
- 10, 8, 6, 4, 2
  - 8, 10, 6, 4, 2
  - 10, 6, 8, 4, 2


6. 
- 
  - 
  - 

7.  $7 - 4 = \dots$

- a. 4
- b. 3
- c. 2




8. Botol minum berbentuk ....

- a. Kubus
- b. Bola
- c. Tabung

9.  Gambar di samping berbentuk ....

- a. Kubus
- b. Balok
- c. Tabung



- a. 
- b. 
- c. 

**II. Jodohkanlah (tariklah garis) pertanyaan di bawah ini dengan jawaban yang benar!**

1. 

6		1
---	--	---

2, 3, 4, 5, 6
---------------

2. 

<b>6, 3, 5, 4, 2</b>
----------------------

  
Jika diurutkan dari yang **terkecil** menjadi ...

5
---

3. 

<b><math>8 + 2 = \dots</math></b>
-----------------------------------

10
----

4. 

<b><math>9 - 4 = \dots</math></b>
-----------------------------------

dadu
------

5. 

Benda yang berbentuk kubus adalah ....
--

Lebih dari
------------