



## ΜΑΘΗΜΑΤΙΚΑ

1. Ο αδελφός μου είναι 30 χρονών κι εγώ είμαι 10 χρόνια μεγαλύτερος. Πόσο χρονών είμαι;

Λύση:.....

Απάντηση: Είμαι .....

2. Στην τάξη έχουμε 30 κιμωλίες άσπρες, 30 μπλε και 30 ροζ. Πόσες κιμωλίες έχουμε στην τάξη;

Λύση:.....

Απάντηση: Έχουμε ..... κιμωλίες.

3. Ο Φώτης έχει στον κουμπαρά του 40 € Έβαλε κι άλλα 60 €. Πόσα € έχει τώρα;

Λύση:.....

Απάντηση: Έχει ..... ευρώ.

4. Ο κυρ- Νίκος ο μανάβης πούλησε 20κ. μήλα, 30κ. μπανάνες, 40κ. φράουλες και 10κ. πορτοκάλια. Πόσα κιλά φρούτα πούλησε;


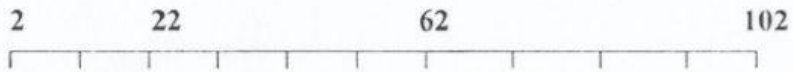
Λύση:.....

Απάντηση: Πούλησε ..... κιλά φρούτα.





## ΜΑΘΗΜΑΤΙΚΑ

Συμπληρώνω τις αριθμογραμμές ανεβαίνοντας 10-10:



Συμπληρώνω τις αριθμογραμμές κατεβαίνοντας 10-10:



Κάνω τις προσθέσεις με το μυαλό μου:

$43+6=$

$58+2=$

$27+3=$

$45+5=$

$51+8=$

$63+7=$

$42+5=$

$20+44=$

$30+45=$

$10+57=$

$40+45=$

$50+27=$

$30+37=$

$40+52=$

