

Data:

Nom:

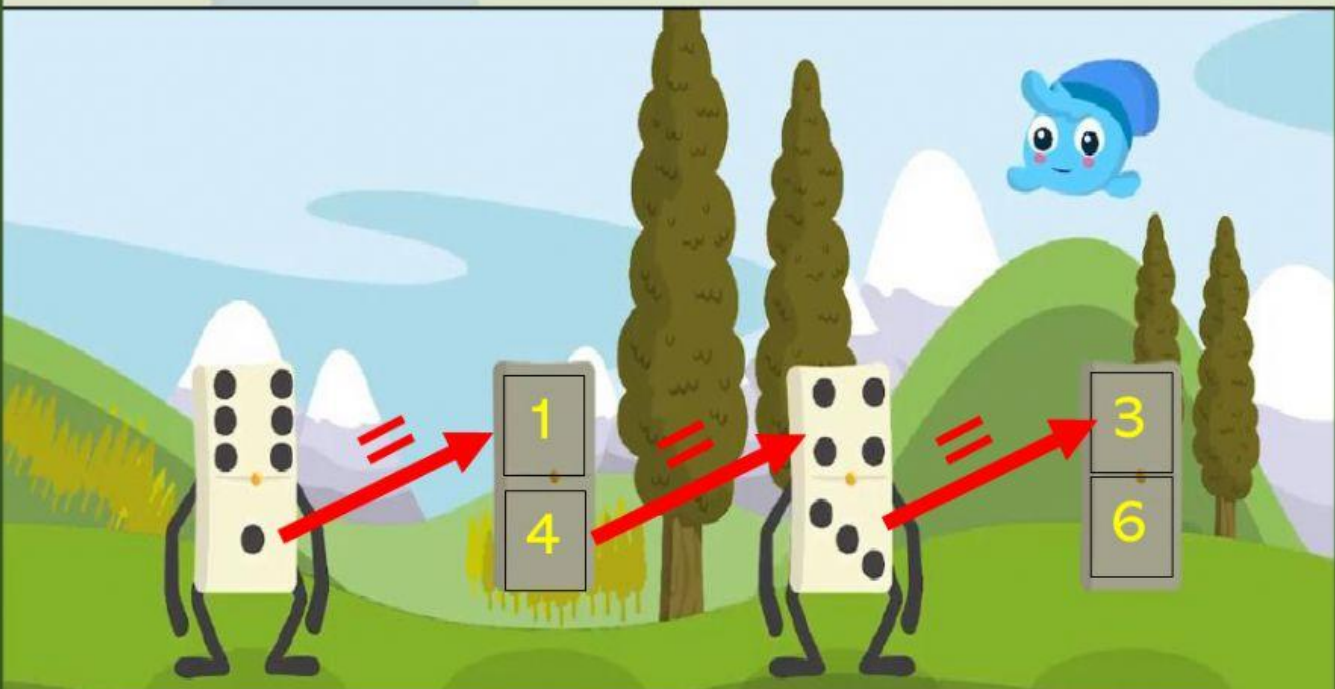
Hem de pensar com continua la sèrie...

Recordeu que el més important és explicar perquè.



2 4 6 8 ?

Justifica-ho:



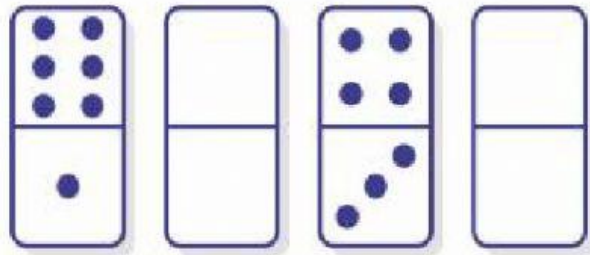
Hi ha diferents formes de solucionar-ho.

Aquesta és la meva **solució** i **justificació**.

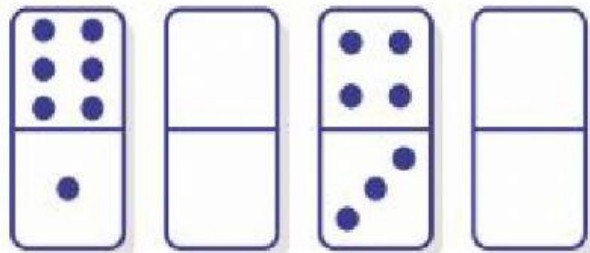
Tingueu en compte que les fitxes de dòmino van de l'1 al 6.

Ara vosaltres busqueu altres solucions.

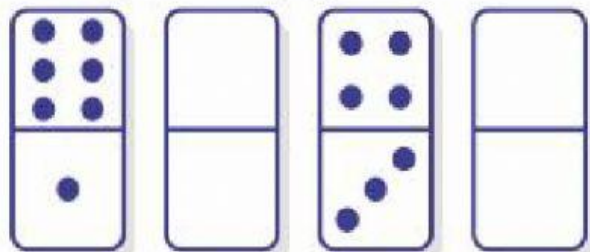
Justifica-ho:



Justifica-ho:



Justifica-ho:



Fixeu-vos en aquest fragment de sèries de cubets en diferents repeticions.

- Quants cubets grocs necessitem?
- Quants cubets verds necessitem?
- Quants cubets necessitem en total?

De quin color serà el 27è cubet d'aquesta 10a repetició?