

UNITÉ 1 - LA MATIÈRE

1. Relie sur les deux propriétés fondamentales de la matière.

La masse

Le volume

La masse

Le volume



BALANCE

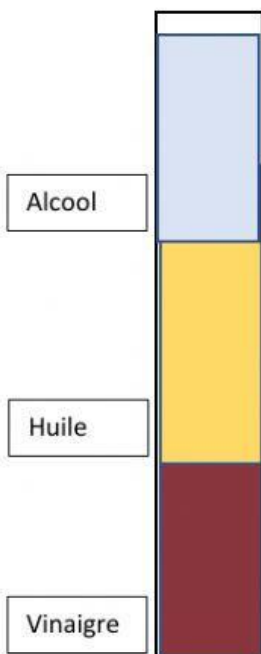
grammes



RÉCIPIENTS
GRADUÉS

litres

2. Regarde l'expérience et complète les phrases sur la densité.









L'alcool a _____ que l'huile.

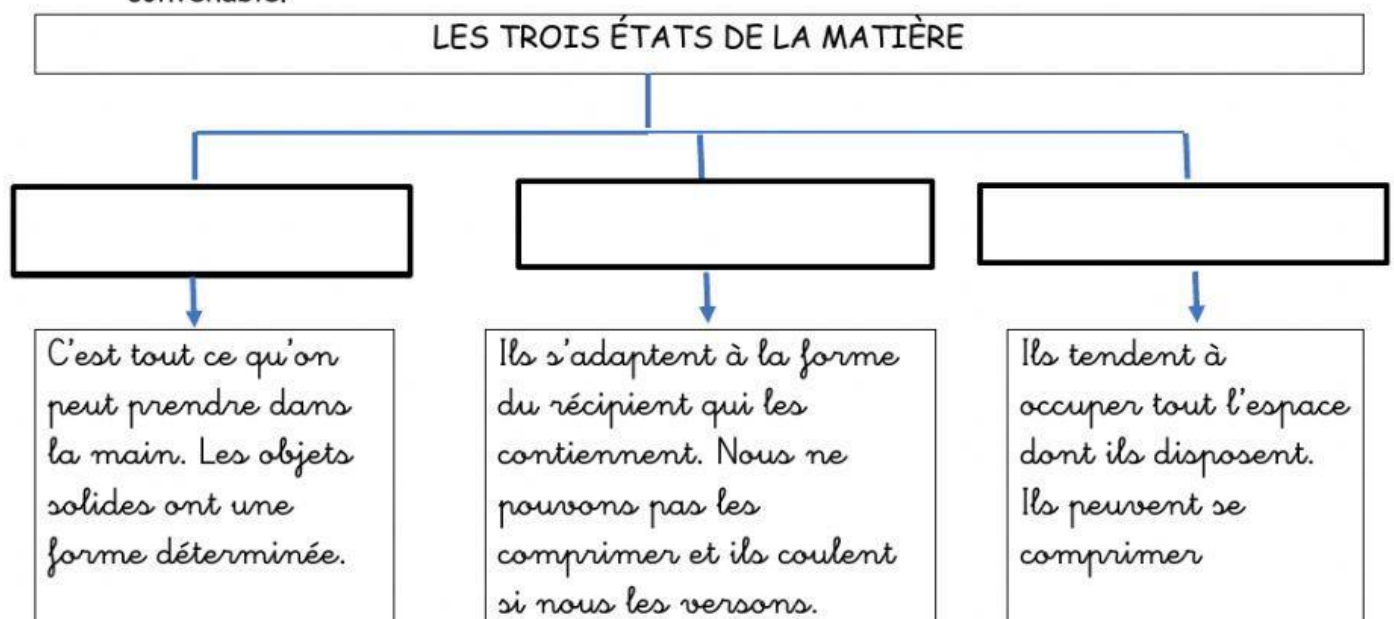
L'huile a _____ que le vinaigre et _____ que l'alcool.

Le vinaigre a _____ que l'huile et l'alcool.

3. Écris la propriété principale de chaque matériau.

| | | |
|---|----------------------------|--|
|  | Un élastique | |
|  | Une feuille | |
|  | Un pont | |
|  | Des verres des lunettes | |
|  | Du cuivre (<i>cobre</i>) | |
|  | Un aimant (<i>imán</i>) | |

4. Quels sont les trois états de la matière. Lis la définition et écris-les à la place convenable.



5. Explique le type de force.

| | |
|---|--|
|  | |
|  | |
|  | |
|  | |