

ATIVIDADE ONLINE

05/10/2020






ATIVIDADE DE MATEMÁTICA

0 1 2 3 4 5 6 7 8 9 10

1) Observe os brinquedos de Lucas:



2) Complete a tabela com a quantidade de alguns brinquedos de Lucas:

Brinquedos	Quantidade
	
	
	
	
	

a) Qual é o brinquedo que Lucas tem em maior quantidade?

b) Qual é o brinquedo que Lucas tem em menor quantidade?

c) Quantos barquinhos Lucas tem? _____

d) Quantas bolas Lucas tem? _____

e) Quantos carrinhos Lucas tem? _____

f) Quantas bolas e carrinhos ele tem no total?

3) Complete as sequências com os números faltosos:

65 66

75 76