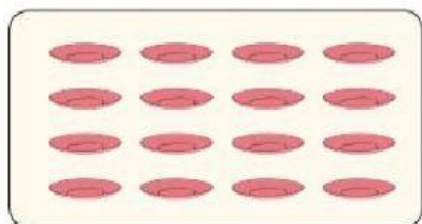



1. Perhatikan gambar berikut, dan jawablah pertanyaan di bawah ini.




= 14



= 16



= 16



= 19



= 20

1. Mana yang lebih banyak sendok atau piring?

.....

2. Mana yang lebih sedikit mangkuk atau gelas?

.....

3. Peralatan apa saja yang sama banyaknya?

.....

4. Peralatan apa yang lebih banyak dari gelas?

.....

5. Peralatan apa yang lebih sedikit dari piring?

.....

6. Tuliskan 1 bilangan yang lebih dari 13.

.....

7. Tuliskan 1 bilangan yang kurang dari 19.

.....

8. Tuliskan 1 bilangan yang lebih dari 15, tapi kurang dari 18.

.....

2. Urutkan gambar di bawah ini. Lalu susunlah cerita berdasarkan gambar yang kamu susun.

