

ATIVIDADE ONLINE

01/10/2020


ATIVIDADE DE MATEMÁTICA

ASSISTA O VÍDEO ANTES DE FAZER A ATIVIDADE.

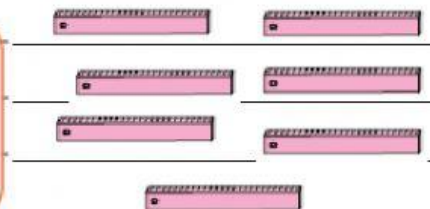


COMPLETE OS RETÂNGULOS ARRASTANDO AS QUANTIDADES CORRETAS DE CADA ELEMENTO.

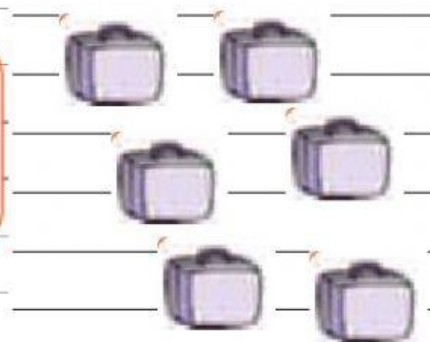
Uma dezena de lápis



Meia dezena de réguas



Meia dezena de malas



Uma dezena de colas

