



EJERCICIO DE MATEMÁTICAS


RESTA O SUSTRACCIÓN

I. Coloca los términos de la sustracción.

$$\begin{array}{r}
 984 \\
 - 752 \\
 \hline
 = 232
 \end{array}$$







II. Desarrolla las siguientes sustracciones.

a. $610 - 200$

b. $875 - 742$

	c	d	u
	6	1	0
—	2	0	0

	c	d	u
—			

a. $524 - 181$

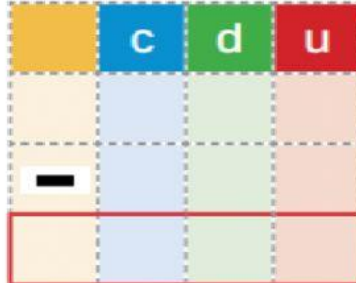
b. $930 - 726$

	c	d	u
	5	2	4
—	1	8	1

	c	d	u
—			

III. Lee, analiza y desarrolla los siguientes problemas. Arrastra y coloca la respuesta final correctamente.

Sofía decoró 395 galletas para navidad, pero sus hermanos se comieron 124. ¿Cuántas galletas le quedan a Sofía ahora?

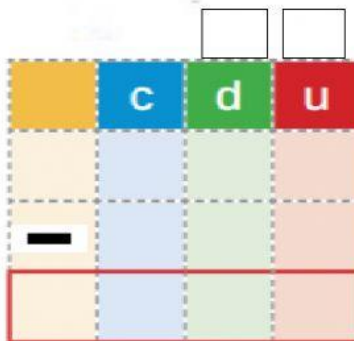


R.

Le quedan 371 galletas.

Le quedan 271 galletas.


Gregorio tiene 548 duros de frutas en la nevera. Esta semana ha vendido 209. ¿Cuántos duros le faltan por vender?



R.

Le faltan 339 duros por vender.

Le faltan 239 duros por vender.



¡BUENA SUERTE!