

UNIDAD EDUCATIVA BENJAMÍN FRANKLIN
MID TERM QUIZ – PRIMER QUIMESTRE – CLASE EN VIVO



Name: _____ Date: 28 - 09 - 2020
Subject: **Matemàtica** Teacher: Miss Ainee Olvera G.
Course: Segundo de Bàsica

1. Resuelve las adivinanzas y escribe las respuestas.

Estoy antes del 4
y después del 2.

Soy el _____.

Estoy antes del 9
y después del 7.

Soy el _____.

Estoy entre el 5
y el 7.

Soy el _____.







Estoy después del
0 y antes del 2.

Soy el _____.

2. Escribe los números que cumplan las relaciones indicadas.

25	=	25	<	
	>	20	<	

3. Escribe la respuesta, tomando en cuenta el valor de cada figura.

	+	3	=	
5	+		=	
	+	2	=	
	=	0		
	=	3		
	=	2		

4. Escribe el signo **+** (más) o **-** (menos) según sea el caso para cada ejercicio.

$3 \bullet 1 = 2$

$10 \bullet 1 = 9$

$4 \bullet 6 = 10$

$5 \bullet 4 = 1$

$7 \bullet 1 = 8$

$5 \bullet 3 = 2$