

## LEMBAR KERJA PESERTA DIDIK (LKPD)

Satuan Pendidikan : SDN 2 Pandanmulyo  
Mata Pelajaran : Matematika  
Kelas : V (Lima)  
Materi Pokok : Sifat-sifat bangun ruang

Petunjuk kegiatan :

1. Berdoalah sebelum mengerjakan
2. Bacalah petunjuk pada setiap kegiatan
3. Setelah mengakhiri LKPD, tulis nama, nomor absen dan kelas
4. Apabila belum paham, tanyakan kepada guru
5. Sebelum mengerjakan LKPD, simak video di bawah ini



*Selamat Mengerjakan*

[ddelhita@gmail.com](mailto:ddelhita@gmail.com)



### Kegiatan 1

Beri nama bangun ruang di bawah ini sesuai dengan pilihan yang disediakan! Tarik nama bangun ke dalam kotak yang disediakan di samping gambar bangun ruang!

PRISMA  
SEGI TIGA

BALOK

LIMAS  
SEGITIGA

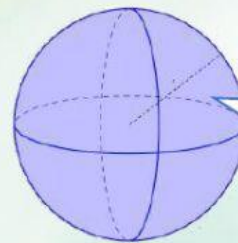
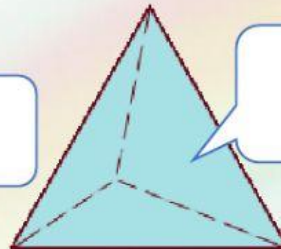
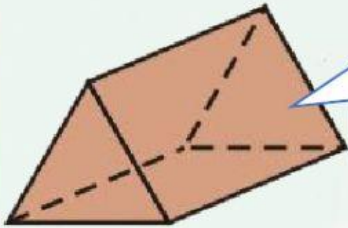
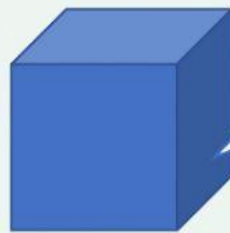
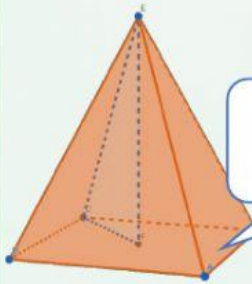
TABUNG

BOLA

KUBUS

KERUCUT

LIMAS SEGI  
EMPAT



[ddelhita@gmail.com](mailto:ddelhita@gmail.com)



## LEMBAR KERJA PESERTA DIDIK (LKPD)

### Kegiatan 2

Tariklah garis sesuai dengan sifat-sifat bangun ruang di bawah ini!

Memiliki 6 rusuk, 3 sisi berbentuk segitiga, dan 4 titik sudut. ●	<input type="radio"/> BALOK
Memiliki 12 rusuk, 6 sisi berbentuk persegi dan 3 pasang bidang sejajarnya sama dan sebangun. ●	<input type="radio"/> LIMAS SEGI EMPAT
Memiliki 2 sisi, yaitu sisi alas berbentuk lingkaran dan selimut, memiliki 1 rusuk dan tidak memiliki titik sudut, tetapi memiliki titik puncak. ●	<input type="radio"/> KUBUS
Memiliki 3 sisi berbentuk persegi dan 2 sisi berbentuk segitiga, serta tidak memiliki diagonal ruang. ●	<input type="radio"/> KERUCUT
Memiliki 12 rusuk, 6 sisi berbentuk persegi panjang, dan memiliki 3 pasang bidang sejajar. ●	<input type="radio"/> LIMAS SEGITIGA
Memiliki 3 sisi yaitu 2 sisi berbentuk lingkaran dan 1 sisi lengkung, memiliki 2 rusuk dan tidak memiliki titik sudut. ●	<input type="radio"/> TABUNG
Memiliki 5 sisi yang terdiri atas 4 sisi berbentuk segitiga, satu sisi berbentuk persegipanjang dan tidak memiliki diagonal ruang. ●	<input type="radio"/> PRISMA SEGI TIGA

[ddelhita@gmail.com](mailto:ddelhita@gmail.com)



LEMBAR KERJA PESERTA DIDIK (LKPD)

Kegiatan 3

Kelompokkan gambar di bawah ini dengan bangun ruang yang sesuai!



<p><b>Kubus</b></p> <p>1.</p> <p>2.</p>	<p><b>Balok</b></p> <p>1.</p> <p>2.</p>
<p><b>Prisma Segi Tiga</b></p> <p>1.</p> <p>2.</p>	<p><b>Kerucut</b></p> <p>1.</p> <p>2.</p>
<p><b>Tabung</b></p> <p>1.</p> <p>2.</p>	<p><b>Bola</b></p> <p>1.</p> <p>2.</p>

[ddelhita@gmail.com](mailto:ddelhita@gmail.com)

