



Latihan Matematika Tema 2 Subtema 3 “ Bangun Ruang ”

Kamis, 10 September 2020

KD 3.6


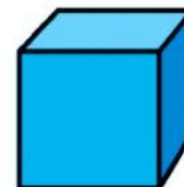
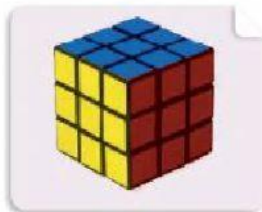
A. Berilah tanda (√) gambar –gambar yang berbentuk **balok** !



B. Berilah tanda (√) gambar –gambar yang berbentuk **kubus** !




C. Pasangkan benda-benda sesuai dengan bentuknya !





Perhatikanlah gambar di bawah ini !



Hitunglah jumlah setiap bangun ruang yang terdapat pada gambar di atas !


1.

2.




berjumlah

3.



berjumlah

4.



berjumlah

5.



berjumlah