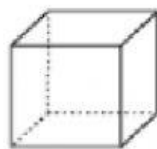


ALUNO:

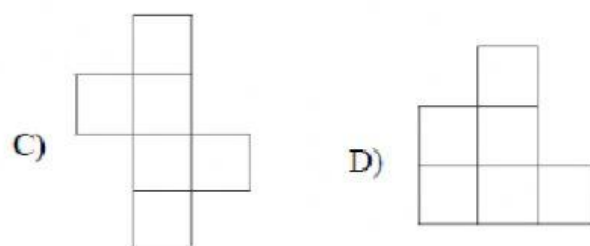
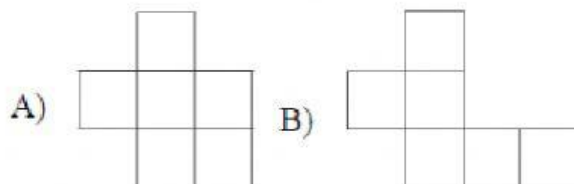
TURMA:

ASSUNTO: ATIVIDADES SÓLIDOS GEOMÉTRICOS

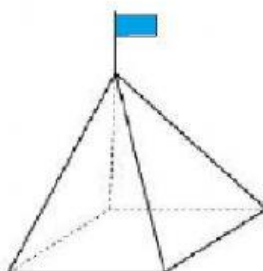
1- (Prova Brasil). Veja o sólido abaixo.



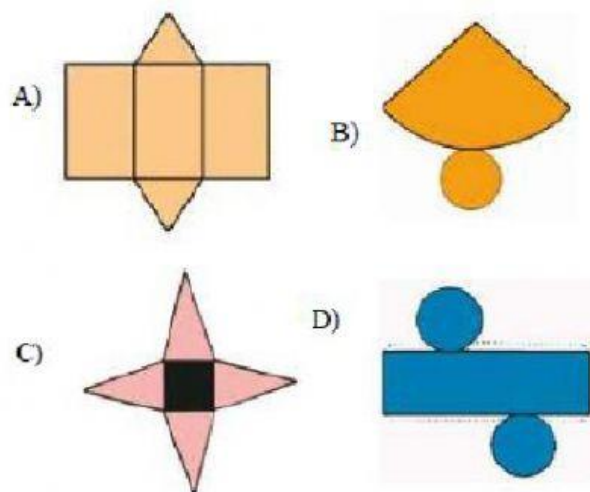
Uma das planificações desse sólido é:



2 - Observe a barraca que Mauro vai levar para o acampamento da escola. Ela tem a forma de uma pirâmide quadrangular.



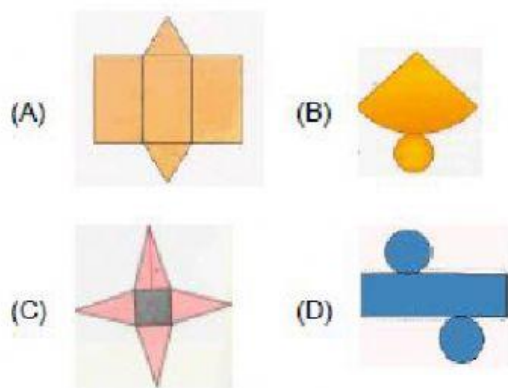
Qual é o molde da pirâmide quadrangular?



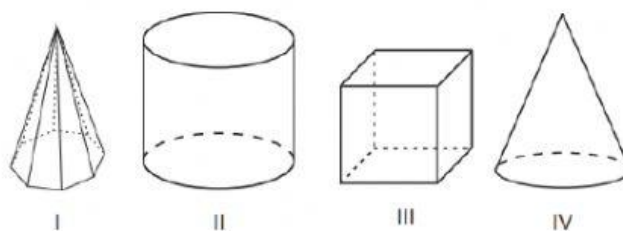
3 - Observe o bumbo que Beto gosta de tocar. Ele tem a forma de um cilindro.



Qual é o molde do cilindro?



4 - Observe os sólidos geométricos desenhados abaixo.



Quais desses sólidos são corpos redondos?

- A) I e II.
- B) I e III.
- C) II e III.
- D) II e IV.

5- No desenho abaixo aparece um objeto comum em todas as casas, afinal, é com a panela que fazemos a comida do dia a dia.



Qual é a forma geométrica que aparece no desenho?

- (A) Cone
- (B) Cilindro
- (C) Cubo
- (D) Esfera

