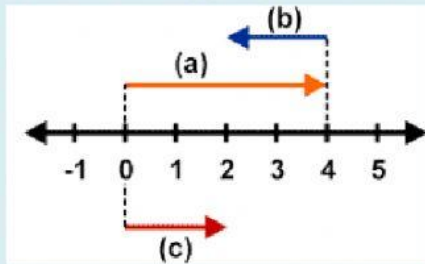




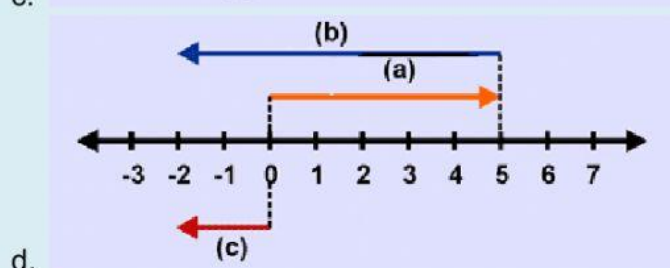
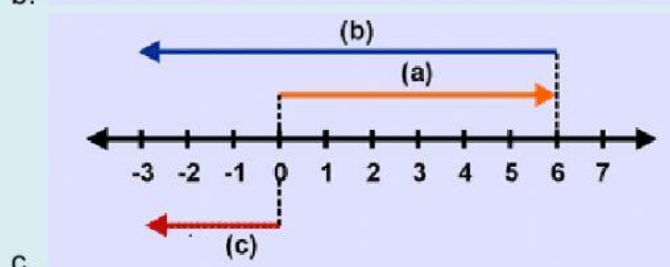
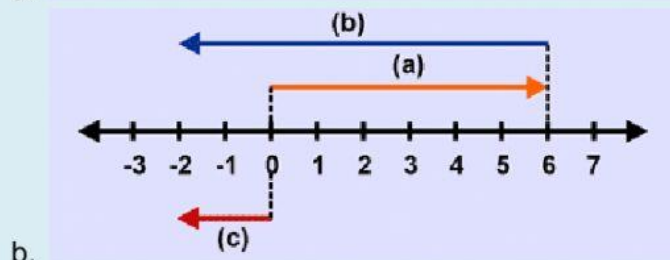
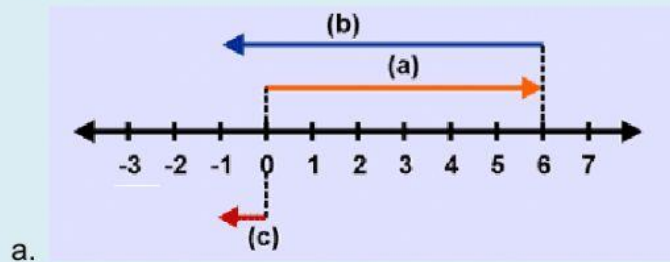
**Pilihlah jawaban yang paling tepat!**

1. Operasi hitung yang sesuai dengan garis bilangan di bawah ini adalah ... .



- a.  $-4 + 2 = -2$                       b.  $4 + (-2) = 2$   
 b.  $-4 - (-2) = -2$                 d.  $4 - (-2) = 6$

2. Garis bilangan yang sesuai dengan operasi hitung  $6 + (-8) = -2$  adalah ... .





3. Bilangan yang berada 6 satuan di sebelah kiri 4 adalah ... .  
a. -2  
b. -3  
c. 2  
d. 3
4. Bilangan yang terletak diantara -4 dan 3 adalah ... .  
a. -4, -3, -2, -1, 0, 1, 2  
b. -3, -2, -1, 0, 1, 2  
c. -3, -2, -1, 0, 1, 2, 3  
d. -4, -2, -1, 0, 1, 2, 3
5. Dua bilangan berikut yang jumlahnya 8 adalah ... .  
a. -3 dan -5  
b. -5 dan 13  
c. 2 dan -10  
d. 3 dan -15
6. Hasil dari  $1.693 - 1.037 + 728$  adalah... .  
a. 1.384  
b. 1.394  
c. 1.484  
d. 1.494
7. Hasil dari  $-92 + 157 - 86$  adalah ... .  
a. -21  
b. -6  
c. 65  
d. 71
8. Hasil dari  $-252 - (-89) + 173$  adalah ... .  
a. -36  
b. -10  
c. 10  
d. 7
9. Hasil dari  $36 \times (-14) : (-18)$  adalah ... .  
a. -82  
b. -28  
c. 28  
d. 82
10. Hasil dari  $40 - 12 \times (-3)$  adalah ... .  
a. -84  
b. -76  
c. 4  
d. 76
11. Sebuah percetakan dapat menghasilkan 650 Qur'an dalam sehari. Setelah 30 hari produksi, Qur'an tersebut dikirim ke 15 panti asuhan sama banyak. Banyak Qur'an yang diterima setiap panti asuhan adalah ... buah.  
a. 1.200  
b. 1.300  
c. 1.400  
d. 1.500
12. Seorang penyelam berada di taman laut. Ia menyelam sejauh 50 meter di bawah permukaan laut, lalu ia turun lagi sejauh 20 meter. Setelah itu, ia naik sejauh 30 meter. Sekarang penyelam tersebut berada di ... meter di bawah permukaan laut.  
a. 10  
b. 30  
c. 40  
d. 100



- Kerjakan soal-soal berikut!**

- ALHAMDULILLAHIROBBIL'ALAMIN