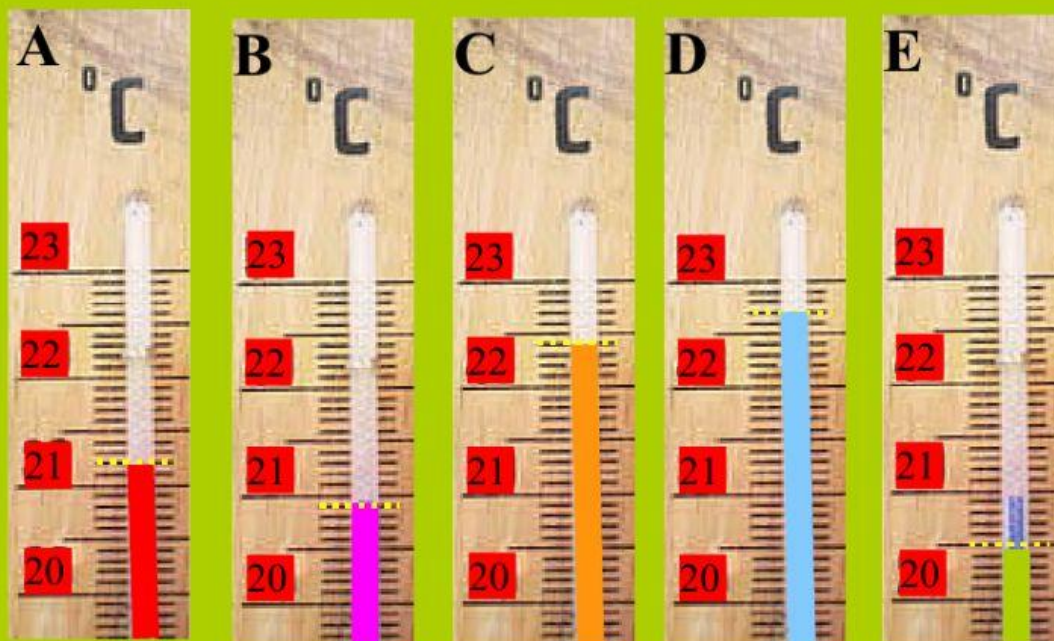




# LES DÈCIMES

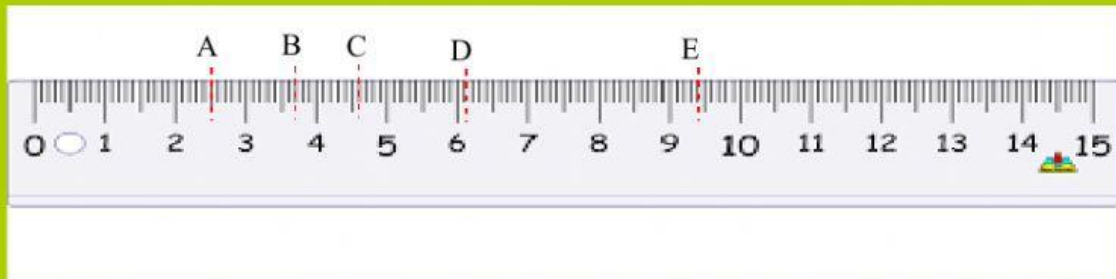
1. Observa aquests termòmetres i completa (empra l'apòstrof com a coma):



- a) El termòmetre A marca una temperatura de      °C. Açò són      graus i      dècimes.
- b) El termòmetre B marca una temperatura de      °C. Açò són      graus i      dècimes.
- c) El termòmetre C marca una temperatura de      °C. Açò són      graus i      dècimes.
- d) El termòmetre D marca una temperatura de      °C. Açò són      graus i      dècimes.
- e) El termòmetre E marca una temperatura de      °C. Açò són      graus i      dècimes.

**2. Escriu aquests nombres decimals emprant la coma:**

- a) 4 unitats i 7 dècimes =                      b) 4 desenes i 8 dècimes =  
c) 5 dècimes =                                      d) 45 dècimes =  
e) 6 centenes i 5 dècimes =                      f) 9 dècimes =

**3. Escriu el nombre decimal que correspon a cada lletra:**

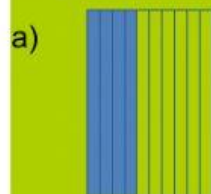
A=

B=

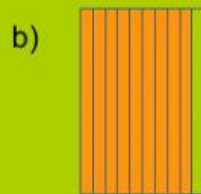
C=

D=

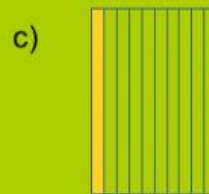
E=

**4. Escriu el nombre que representa cada dibuix: primer amb la coma i després desglossant-lo:**

=



=



=