











- Fazer um **X** no numeral que indica a quantidade de figuras encontradas em cada quadrado.

Marque os quadrinhos de acordo com o número marcado.

<div>1 2 3 4 5 6</div>	<div>1 2 3 4 5 6</div>
<div>  </div> <div> <div></div><div></div><div></div><div></div><div></div><div></div> </div>	<div>   </div> <div> <div></div><div></div><div></div><div></div><div></div><div></div> </div>
<div>1 2 3 4 5 6</div>	<div>1 2 3 4 5 6</div>
<div>    </div> <div> <div></div><div></div><div></div><div></div><div></div><div></div> </div>	<div>     </div> <div> <div></div><div></div><div></div><div></div><div></div><div></div> </div>