



**PENILAIAN HARIAN IPA TEMA 2 SUBTEMA 1
MI. RIYADLUS SHIBYAN
TH. 2020-2021**

NAMA :

KELAS : 5B

A. PILIHAN GANDA

Pilihlah salah satu jawaban a, b, c atau d yang dianggap paling tepat!





1. Perhatikan gambar di bawah ini!



Hewan di atas bernapas menggunakan

- a. insang
- b. paru-paru
- c. kulit
- d. trakea

2. Hewan yang alat pernapasannya trakea adalah

- a. 
- b. 
- c. 
- d. 

3. Organ pernapasan manusia adalah

- a. paru-paru
- b. kulit
- c. insang
- d. pundi udara

4. Fungsi organ di bawah ini untuk



- a. Penghubung ke paru-paru
 - b. Menggetarkan pita suara
 - c. Mengantarkan udara ke paru-paru
 - d. Penyaringan debu dan kotoran
5. Tempat pertukaran oksigen dan karbondioksida adalah
- a. Bronkiolus
 - b. Bronkus
 - c. Alveolus
 - d. dada

B. Isilah bagian yang rumpang dengan kata di dalam kotak.

MENARIK NAPAS

Kita bernapas menghirup _____

Saat menarik napas, tulang rusuk akan _____

Volume rongga dada _____

Dan paru-paru _____

Sehingga udara akan _____ ke dalam paru-paru.

Membesar

Oksigen

Kontraksi

Mengembang
na

Masuk