







En la siguiente tabla se ubicó la información de seis amigos que decidieron ahorrar

50						
45						
40						
35						
30						
25						
20						
15						
10						
5						
						
	PAQUITO	ENRIQUE	RAQUEL	ROCÍO	CECILIA	PABLO

A partir de la información, une con una flecha el valor que cada uno ahorró



¿Quién ahorró más?

¿Quién ahorró menos?

¿Cuánto le falta a Enrique para tener lo mismo que Raquel?

Si Cecilia y Paquito juntan su dinero ¿Cuánto tendrán?

¿Cuánto ahorraron los 6 amigos en total?

Modificada con fines pedagógicos. Autor pictogramas: Sergio Palao

Procedencia: <http://catedu.es/arasaac/>
<http://enelauladeapoyo.blogspot.com/>

Licencia: CC (BY-NC-SA)
ELENA E. MEDINA