


HISTÓRIAS MATEMÁTICAS

 MIGUEL TEM



E



• QUANTOS




• QUANTOS




• QUANTOS BRINQUEDOS MIGUEL TEM AO TODO?

 LÚCIA FOI À FEIRA E COMPROU



E



• QUANTAS



LÚCIA COMPROU?

• QUANTOS



LÚCIA COMPROU?

• QUANTAS FRUTAS LÚCIA COMPROU AO TODO?

