

¿Qué recuerdas de 5° grado? Parte II

Fecha recibida: / /

Nombre: _____ Fecha de entrega: / /

Aprendizaje esperado: Aplicarás algunos procedimientos y estrategias para llegar a la solución de diferentes problemas.

Instrucciones:

- ✓ En **tu cuaderno** escribe la fecha de hoy y el título “Operaciones de guía diagnóstico 2”
- ✓ Lee y elige los problemas que puedes resolver **sin ayuda**. Recuerda que este es un diagnóstico que nos dará información sobre los temas que necesitamos repasar.
- ✓ Todo se contesta en esta guía.

Completa las tablas con la información necesaria. Recuerda que, si haces operaciones o notas, deberás registrarlas en tu cuaderno.

1.- En una fábrica se hacen camisas. Completa la siguiente tabla, encontrando los números faltantes.

Camisas	1	8	10		200
Número de botones		96		1440	

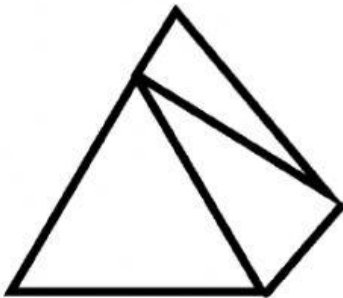
2.- En la taquería del Chamizal, tienen la siguiente promoción.


Completa la tabla con la información faltante:

Mesas	Mesa 1	Mesa 2	Mesa 3	Mesa 4
Número de tacos	12		28	
Total a pagar		\$ 178		\$ 445




- 3.- Observa la siguiente figura.
- Realiza lo que se te pide y completa la tabla con las características.



- Pega esta marca  sobre el triángulo equilátero.
- Pega esta marca  sobre el triángulo isósceles.
- Pega esta marca  sobre el triángulo escaleno.

Triángulo equilátero	Triángulo isósceles	Triángulo escaleno
Sus lados son:	Sus lados son:	Sus lados son:
Sus ángulos son:	Sus ángulos son:	Sus ángulos son:

- 4.- Para la feria del libro se colocará un escenario de madera en forma rectangular. ¿Qué cantidad de madera se necesitará para realizarlo?

Datos	Operación	Resultado
 <div>8.4 m</div> <div>4.3 m</div>		

4.- Jacinta ha avanzado con el 25% de su guía. ¿Qué porcentaje le falta para completarla?

Datos	Operación	Resultado

5.- Al morir, un hombre dejó una herencia de \$848,200 para repartirla entre sus tres hijos. A Juan le toco $\frac{1}{8}$, a Pedro le dejó $\frac{1}{4}$ y a Ernesto le tocó $\frac{1}{2}$. Lo que sobra será para una casa hogar. ¿Cuánto dinero le correspondió a cada uno de los hijos?

Datos	Operación	Resultado
		Juán
		Pedro
		Ernesto
		Casa Hogar


6.- De 520 personas entrevistadas, el 70% prefirió quedarse en casa durante estas vacaciones. ¿Cuántas son las personas **que prefieren salir**?

Datos	Operación	Resultado

7.- Durante el año 2000 se reforestaron algunos bosques en el estado de Michoacán. Se plantaron 23, 568 abetos; 588, 345 abedules; 356, 123 robles y 349, 210 pinos ¿Cuántos árboles se plantaron en total?

Datos	Operación	Resultado

8.- Pedí algunos libros por internet. ¿Cuánto tengo que pagar?



Pasta blanda desde \$1,409.63



Pasta blanda \$327.46



Pasta blanda desde \$208.98

Datos	Operación	Resultado

9.- Completa la siguiente Autoevaluación. El máximo de puntos se encuentra en la segunda columna del lado izquierdo. De acuerdo a tu criterio, coloca tus puntos en **Autoevaluación**.

	Máximo de puntos	Criterio	Autoevaluación	Evaluación
Hábitos y estructura	5	Guía completa		
	2	Orden y estructura del trabajo		
	3	Trabajo en silencio y sin ayuda		
		Total		
Habilidad y contenido	3	Profundidad en respuestas		
	3	Logro del propósito		
	4	Seguimiento de instrucciones (autonomía)		
		Total		