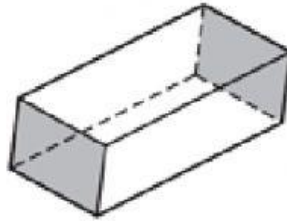


Nombre \_\_\_\_\_

Practice  
10-2

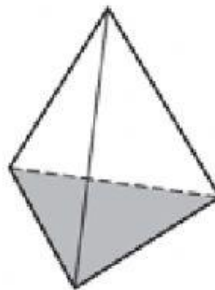
## Relacionando sólidos y figuras

Mire este prisma rectangular.



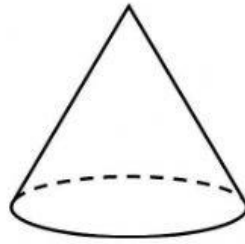
1. ¿Cuántas **caras** tiene este prisma rectangular?  
\_\_\_\_\_
2. ¿Cuál es la **figura que tiene cada cara del** prisma rectangular?  
\_\_\_\_\_
3. ¿Cuántas **aristas** tiene este prisma rectangular?  
\_\_\_\_\_
4. ¿Cuántas **vértices** tiene este prisma rectangular?  
\_\_\_\_\_

Mire esta pirámide.



1. ¿Cuántas **caras** tiene esta pirámide?  
\_\_\_\_\_
2. ¿Cuál es la **figura que tiene cada una de las caras** de la pirámide?  
\_\_\_\_\_
3. ¿Cuántas **aristas** tiene esta pirámide?  
\_\_\_\_\_
4. ¿Cuántas **vértices** tiene esta pirámide?  
\_\_\_\_\_

Mire este cono.



1. ¿Cuántas **bases** tiene este cono?

---

2. ¿Cuántas **vértices** tiene este cono?

---