

ورقة عمل

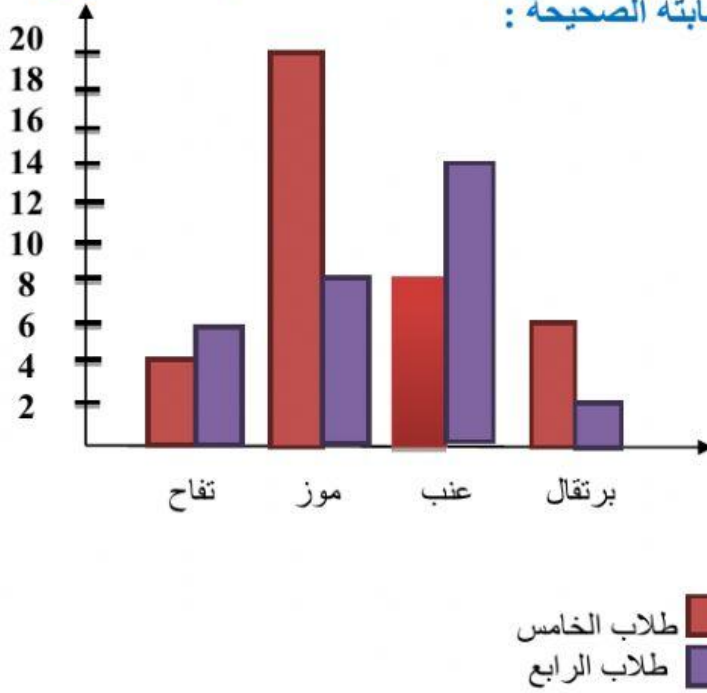
المدرسة: متوسطة البنين - ثانوية البنات
العام الدراسي: 2021/2020

ورقة عمل رقم (9)

الفصل الدراسي: الأول

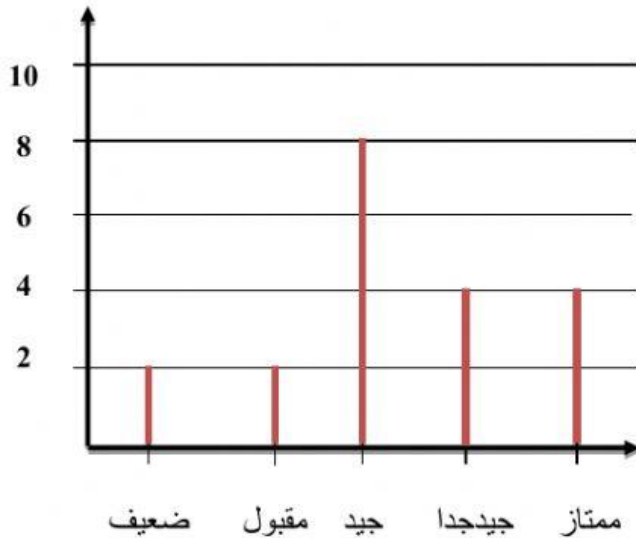
الاسم:	الصف: الرابع	التاريخ: 2020 / /
المادة الدراسية: رياضيات		الزمن: 45 دقيقة

السؤال الأول: اعتمادا على الرسم البياني المجاور الذي يمثل الفاكهة المفضلة عند طلاب الصف الرابع وطلاب الصف الخامس، صل بخط بين السؤال واجابته الصحيحة :



عنب	عدد طلبة الصف الخامس الذين يفضلون البرتقال
تفاح	نوع الفاكهة التي يفضلها اكبر عدد من طلبة الصف الرابع
6 طلاب	عدد طلبة الصف الرابع الذين يفضلون الموز
8 طلاب	مانوع الفاكهة الذي يفضله 4 طلاب من الصف الخامس

السؤال الثاني: اعتمادا على البيانات الممثلة في الرسم البياني، أجب عما يلي:



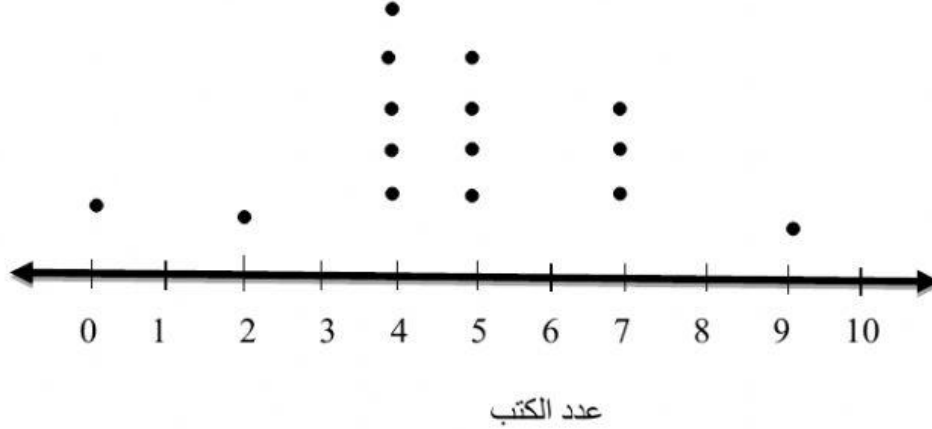
(1) كم عدد الطلاب الذين أخفقوا في الامتحان؟

(2) كم عدد الطلاب الذين حازوا على تقدير جيد جدا؟

(3) كم عدد طلاب الصف ؟

ورقة عمل

السؤال الثالث: إذا كان عدد طلاب الصف الرابع 20 طالبا، فحسب البيانات الممثلة بالنقاط المجمعّة التالية، اختر الإجابة الصحيحة مما يلي:



- عدد الطلاب الذين قرأوا 5 كتب: (أ) 5 طلاب (ب) 4 طلاب (ج) طالب واحد
- عدد الطلاب الذين لم يقرأوا أي كتاب: (أ) 5 طلاب (ب) 4 طلاب (ج) طالب واحد
- ماذا يعني عدم وجود نقاط فوق الرقم 6؟ (أ) هناك 6 طلاب قاموا بقراءة 6 كتب (ب) لم يقرأ أي طالب في الصف الرابع 6 كتب (ج) عدد الطلبة 20 طالب