

- Quantos ovos vamos usar para fazer a receita do QUINDIM? \_\_\_\_\_

UMA **DÚZIA** É O MESMO QUE **12 UNIDADES**.





MEIA **DÚZIA** É O MESMO QUE **6 UNIDADES**.





Agora é sua vez!

Marque o conjunto que tem **UMA DÚZIA**.

☐☐

Quais os produtos que podemos comprar por dúzia?

---



---

Na geladeira tem 19 ovos, quantos vão sobrar depois que eu fizer a receita do quindim?

☐ 10☐ 7☐ 12

Observe os desenhos e escreva no quadrinho quantas unidades faltam para completar:

• **UMA DÚZIA**




• **MEIA DÚZIA**





Mostra como você está fera nas histórias matemáticas!

a) Renata comprou uma dúzia de lápis para dividir igualmente entre seus 3 sobrinhos. Quantos lápis cada um vai receber?



b) Júlia tinha 2 dúzias de adesivos. Para enfeitar seu caderno ela usou 10 adesivos. Quantos adesivos sobraram?

D	U

RESPOSTA: Sobraram \_\_\_\_\_ adesivos.

c) A professora Jelma comprou 1 dúzia e meia de bolinhas de gude para dividir igualmente em 3 saquinhos. Faça o desenho das bolinhas e distribua nos saquinhos para descobrir quantas bolinhas caberá em cada um.

