

Escola Municipal Pedro Rodrigues do Carmo

Data: _____


Assinale a resposta certa em cada questão. Não se esqueça de enviar para a professora.

SIMULADO DE MATEMÁTICA

QUESTÃO 01

Roberto está com febre.

Veja a ilustração do termômetro que marca a temperatura dele.



Esse termômetro está marcando

- A) 39° C
- B) 39,3° C
- C) 39,5° C
- D) 40° C

QUESTÃO 02

Na papelaria "ESCOLAR", o preço do caderno está em oferta. Veja.



Fonte: www.petercafeesport.com

Ana aproveitou essa oferta e comprou dois desse caderno.

Quanto ela gastou?

- A) R\$ 2,00
- B) R\$ 3,27
- C) R\$ 6,44
- D) R\$ 6,54

QUESTÃO 03

(Portal MEC). Um fazendeiro tinha 285 bois. Comprou mais 176 bois e depois vendeu 85 deles. Quantos bois esse fazendeiro tem agora?

- (A) 266
- (B) 376

- (C) 476
- (D) 486

QUESTÃO 04

Utilizando canudos de refrigerante de mesmo comprimento e fio, Marcela construiu uma figura. Veja abaixo o desenho do que ela fez.



A figura que Marcela construiu parece com um

- A) pentágono.
- B) quadrado.
- C) trapézio.
- D) triângulo.

QUESTÃO 05

A professora pediu a três alunos que interpretassem o número abaixo.

135

Veja o que eles fizeram.

1 centena e 5 unidades	1 centena e 35 unidades	13 dezenas e 5 unidades
Jane	Mateus	Afonso

Quem acertou?

- A) Jane e Afonso.
- B) Jane e Mateus.
- C) Mateus e Afonso.
- D) Somente Jane.

QUESTÃO 06

A tabela abaixo mostra o horário semanal da Escola "CONSTRUIR".

	2ª feira	3ª feira	4ª feira	5ª feira	6ª feira
1º horário	Ciências	Português	Educação Física	Português	Ciências
2º horário	Estudos Sociais	Português	Educação Física	Português	Ciências
3º horário	Matemática	Ciências	Matemática	Estudos Sociais	Artes
4º horário	Matemática	Ciências	Matemática	Estudos Sociais	Artes

Na quinta-feira, no 3º horário, os estudantes dessa escola têm aula de

- A) Português.
- B) Estudos Sociais.
- C) Ciências.
- D) Matemática.

QUESTÃO 07

Os moradores do bairro Vera Cruz arrecadaram para algumas famílias 6 290 cestas básicas, que serão distribuídas em duas semanas. Na primeira semana, foram distribuídas 3 178 cestas.

Quantas cestas ficaram para ser distribuídas na segunda semana?

- A) 3 012
- B) 3 112
- C) 3 122
- D) 3 128

QUESTÃO 8



Figura 1

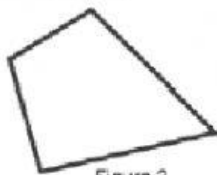


Figura 2



Figura 3



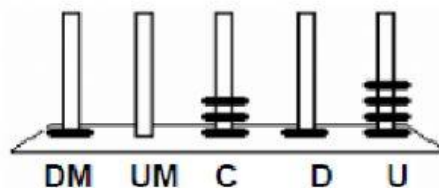
Figura 4

Quais dessas figuras são quadriláteros?

- A) Figuras 2, 3 e 4.
- B) Figuras 1, 2 e 3.
- C) Figuras 1, 2 e 4.
- D) Figuras 1, 3 e 4.

QUESTÃO 09

(Portal MEC). No ábaco abaixo, Cristina representou um número:




Qual foi o número representado por Cristina?

- (A) 1.314
- (B) 4.131
- (C) 10.314
- (D) 41.301

QUESTÃO 10

Veja abaixo o tabuleiro de um jogo.



O símbolo que está entre ☀ e ⚙ é

- A) ♥
- B) 🏰
- C) ♣
- D) ▼

Faça com Atenção!!!!

What do you want to do?



Check my answers



Email my answers to my teacher

Enter your full name: NOME

Group/level: TURMA

COLOQUE O NÚMERO DA SUA TURMA

School subject: TODAS

Enter your teacher's email or key code:

pcarmo400@gmail.com

PREENCHA COM O EMAIL

Send

APERTE PARA ENVIAR