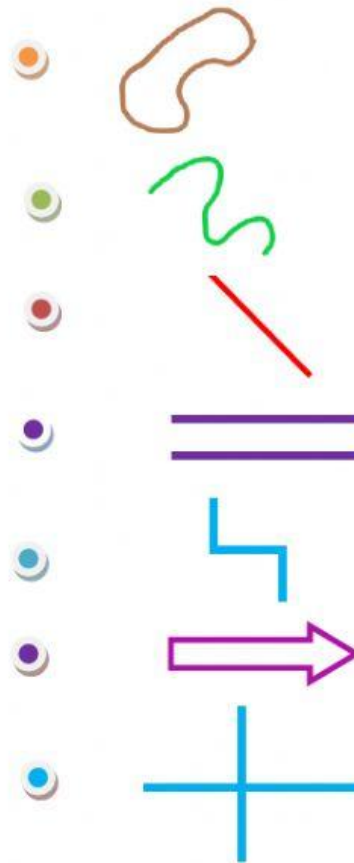



MATEMÁTICAS PRUEBA INICIAL 4º PRIMARIA

Durante el recorrido del Río Majaceite, nos hemos encontrado algunas líneas dibujadas en el suelo, relaciónalas con su nombre.

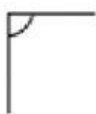
Línea recta
Línea poligonal abierta
Líneas paralelas
Línea curva abierta
Línea poligonal cerrada
Líneas perpendiculares
Línea curva cerrada



Marca la intersección entre estas dos líneas.



Escribe de qué tipo son (agudo, recto, llano u obtuso) estos ángulos



.....

.....

.....

.....