

CUENTAS EN EL SUPERMERCADO

DOS PERSONAS FUERON AL SUPERMERCADO A REALIZAR COMPRAS. COMPRARON LOS PRODUCTOS QUE VES FUERA DE CADA CHANGUITO.

1- ¿CUÁNTO GASTÓ CADA UNA? ANOTÁ EL TOTAL DEBAJO DE CADA CHANGUITO.

2 ¿CUÁNTO GASTARON EN TOTAL ENTRE LOS DOS?


+

3 -¿QUIÉN GASTÓ MÁS? EL N°

\$

	\$ 25
	\$73
	\$100
	\$30
	\$80
	\$60
	\$ 40
	\$ 33
	\$25
	\$110
	\$94
	\$55

1




\$

TOTAL


1 

2 

3 

4 

5 

6 

ARMÁ LOS CHANGUITOS

2



\$

TOTAL

1 

2 

3 

4 

5 

6 