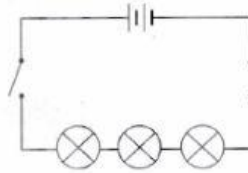


KERTAS 2

Arahan: Tulis jawapan kamu dalam ruangan yang disediakan.

✓ **Litar Bersiri dan Litar Selari, Kesan Nyalaan Mentol**

1. Rajah 1.1 menunjukkan satu jenis litar yang telah dipasang oleh sekumpulan murid.



Rajah 1.1

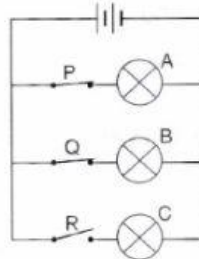
(a) Apakah jenis litar yang ditunjukkan dalam rajah di atas?

_____ [1 markah]

(b) Nyatakan **satu** ciri litar berdasarkan jawapan kamu di (a).

_____ [1 markah]

(c) Rajah 1.2 menunjukkan satu lagi litar yang telah dipasang oleh murid tersebut.

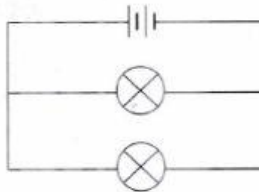


Rajah 1.2

Apakah yang akan berlaku terhadap mentol-mentol sekiranya suis R dibuka?

_____ [1 markah]

(d) Rajah 1.3 menunjukkan sejenis litar yang dipasang di rumah kita.



Rajah 1.3

Berdasarkan Rajah 1.3, apakah jenis litar tersebut? Nyatakan **satu** ciri litar itu.

Jenis litar: _____

Ciri-ciri: _____

[1 markah]