




## RESOLEM PROBLEMES DE LONGITUD

Avui et plantejo resoldre uns problemes. Recorda les passes que has de seguir:


- 1r Llegeix bé l'enunciat tantes vegades com et sigui necessari, imaginant les informacions que aporta.
- A) Completa l'apartat de DADES.
  - B) Passa les mesures que surten al problema a la mesura que surt a la pregunta final, si és necessari.
  - C) Fes les operacions a la llibreta.
  - D) Escriu la SOLUCIÓ.

1. La passa d'una persona adulta fa 50 cm. Si en Ferran fa 5 passes, quants metres ha recorregut?


DADES	SOLUCIÓ
<ul style="list-style-type: none"><li>• La passa d'un adult mesura:</li><li>• Quina mesura surt a la pregunta final?:</li><li>• Passa aquesta mesura a la mesura de la pregunta final:</li><li>• En Ferran ha fet                      passes.</li></ul>	 <ul style="list-style-type: none"><li>• En Ferran ha recorregut</li></ul>



2. De casa meva a l'escola hi ha una distància de 300 m. Si avui he fet aquest trajecte 4 vegades, quants dam hauré fet?


DADES	SOLUCIÓ
<ul style="list-style-type: none"><li>• De casa meva a l'escola hi ha:</li><li>• Quina mesura surt a la pregunta final?:</li><li>• Passa aquesta distància a la mesura de la pregunta final:</li><li>• Quantes vegades he fet aquesta distància avui?</li></ul>	 <ul style="list-style-type: none"><li>• Avui he fet</li></ul>

3. El camp de futbol de la nostra escola fa 75 m de longitud. Si en Pau ha fet un total de 225 m. Quantes voltes ha fet?

DADES	SOLUCIÓ
<ul style="list-style-type: none"><li>• El camp de futbol de l'escola fa:</li><li>• Quina mesura surt a la pregunta final?:</li><li>• Passa la longitud del camp a la mesura de la pregunta final:</li><li>• Quina distància total ha fet en Pau?:</li></ul>	 <ul style="list-style-type: none"><li>• En Pau ha fet</li></ul>



4. El circuit de Jerez de fórmula 1 fa 4.423 metres. Quants km i m són?

DADES	SOLUCIÓ
<ul style="list-style-type: none"><li>El circuit de Jerez fa:</li><li>Quines mesures surten a la pregunta final?: i</li></ul>	 <ul style="list-style-type: none"><li>El circuit de Jerez fa: i</li></ul>

5. Un llapis fa 10 cm i 2 mm. Si posam 6 llapis en filera, quants dm faran en total?

DADES	SOLUCIÓ
<ul style="list-style-type: none"><li>Un llapis fa (empra la coma i expressa-ho en cm):  cm</li><li>Quina mesura surt a la pregunta final?:</li><li>Passa la mida del llapis a la mesura de la pregunta final:</li><li>Quants llapis posam en filera?:</li></ul>	 <ul style="list-style-type: none"><li>6 llapis en filera faran</li></ul>



Aquí tens l'escala si et fa falta:

km – hm – dam – m – dm – cm – mm