




رتب الأجسام تبعا للطول : أكتب 1 - للطويل 2 - للأطول  
3 - للأطول على الاطلاق




كم يبلغ طول كل من الأجسام تقريبا



مشبك ورقي \_\_\_\_\_



مكعب \_\_\_\_\_



مكعب \_\_\_\_\_