

WIE SPÄT IST ES?

1. Was passt? Verbinde die Uhren mit der richtigen Uhrzeit:




Es ist halb zehn



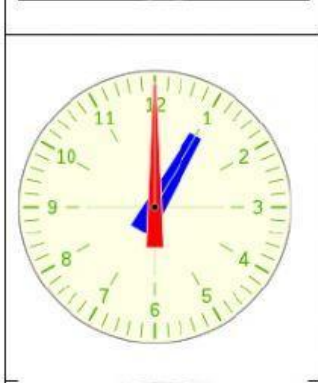

Es ist Viertel nach zwölf.

Es ist zwanzig vor drei.



Es ist fünf vor acht.

Es ist zwanzig vor vier.



Es ist zwanzig nach fünf.



Es ist halb sieben.













Es ist eins. /Es ist ein Uhr.



Es ist zehn nach sechs.

WIE SPÄT IST ES?

2. Wie spät ist es? Ergänze.

				
<p>Es ist</p> <p>_____</p> <p>_____</p>	<p>Es ist</p> <p>_____</p> <p>_____</p>	<p>Es ist</p> <p>_____</p> <p>_____</p>	<p>Es ist</p> <p>_____</p> <p>_____</p>	<p>Es ist</p> <p>_____</p> <p>_____</p>
				
<p>Es ist</p> <p>_____</p> <p>_____</p>	<p>Es ist</p> <p>_____</p> <p>_____</p>	<p>Es ist</p> <p>_____</p> <p>_____</p>	<p>Es ist</p> <p>_____</p> <p>_____</p>	<p>Es ist</p> <p>_____</p> <p>_____</p>
				
<p>Es ist</p> <p>_____</p> <p>_____</p>	<p>Es ist</p> <p>_____</p> <p>_____</p>			