

GÜNLÜK ÇALIŞMA

HAYAT BİLGİSİ:

A. Aşağıda verilen bilgilerden doğru olanlar için yanındaki kutucuğa "D" yanlış olanlar için yanındaki kutucuğa "Y" yazın.

- Kâğıt atıklar çöp kutusuna atılmalıdır.
- Doğayı korumak herkesin görevidir.
- Geri dönüşüm ülke ekonomisi için önemli değildir.
- Cam atıklar geri dönüştürülemez.
- Doğayı korumak için geri dönüşüme destek olmalıyız.
- Plastik atıklar doğa için zararlı değildir.

TÜRKÇE

A. Aşağıda verilen kelimeleri alfabetik sıraya göre yanına sıra numarasını yazın.

Vakit	
Temiz	
Pak	
Ozan	

Şahit	
Tane	
Zor	
Sene	

Yanıt	
Görev	
Konut	
Misafir	

B. Aşağıdaki kelimelerin eş anlamlarını karşısına yazın.



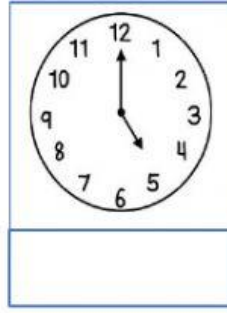

Al	
Mektep	
Talebe	
Muallim	

Anı	
Hekim	
Nem	
Ufak	

Karşıt	
Şahit	
Güç	
Yıl	

MATEMATİK

A. Aşağıda gösterilen saatlerin okunuşunu altına yazın.



B. Aşağıdaki tabloya göre soruları cevaplayın.

Tablo: Sevilen yemekler	
Köfte	10
Fasulye	12
Ispanak	13
Mercimek	9
Pırasa	11

- 1.) En fazla sevilen yemek:
- 2.) En az sevilen yemek:
- 3.) Köfte ile ıspanak sevenlerin toplamı:
- 4.) Mercimek ile pırasa sevenlerin toplamı:
- 5.) En çok ve en az sevilen yemeklerin toplamı:

C. 1 onluk 8 birlikten oluşan bir sayıdan 9 çıkarırsak sonuç kaç olur?

$$\boxed{} - \boxed{} = \boxed{}$$

D. Yeliz 6 sayfa daha okursa toplam 20 sayfa kitap okumuş olacak. Yeliz kaç sayfa okumuştur?

$$\boxed{} + \boxed{} = \boxed{}$$

E. Aşağıda yazılı olan sayıların arasındaki sayıları yazın.

19 21

88 90

41 43

68 70

59 61

33 35