

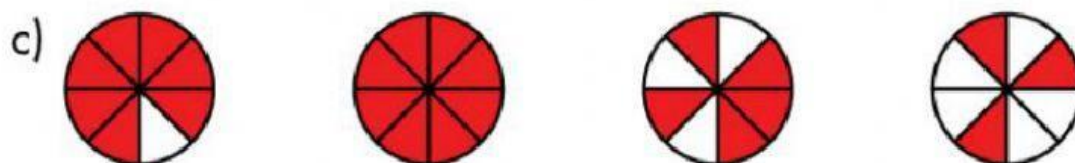
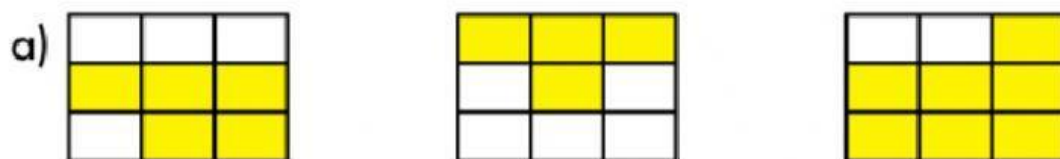


ZATIQUIAK

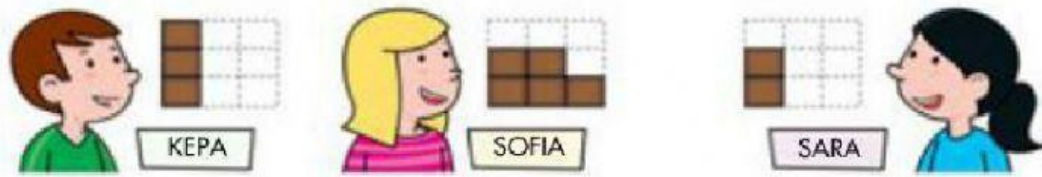
1- Idatzi margotu den zatiari dagokion zatikia.



2- Goiko zatikiak ordenatu txikitik handira.




3- Nork jan du gehien? Eta gutxien?



Gehien jan duena da. Gutxien jan da. duena

4- Ordenatu handitik txikira bakoitzari geratzen zaion txokolatina.



5- Sailkatu honako zatiki hauek.

Sailkatu honako zatiki hauek, unitatea baino handiagoak, txikiagoak eta unitatearen parekoak direnak bereiziz.

$\frac{7}{8}$ $\frac{5}{6}$ $\frac{8}{5}$ $\frac{4}{4}$ $\frac{3}{3}$ $\frac{3}{2}$ $\frac{9}{9}$ $\frac{1}{5}$ $\frac{6}{6}$


1 BAINO HANDIAGOAK	1 BAINO TXIKIAGOAK	1EN PAREKOAK

6- Osatu falta den gaia, kolore gorriz.

$7/$ = 1 $/6 = 1$ $8/$ = 1 $5/5 =$ $/9 = 1$

7- Idatzi margotu den zatiari dagokion zatikia eta jarri ikurra (<, > edo =)

Idazten duzunean, ez utzi espazio librerik.



$$\frac{1}{2} > \frac{2}{2}$$

