



COLEGIO SAN JOSÉ
Avda. los Castaños N°7170 Lomas Coloradas San Pedro de la Paz
Fono (41)2390051 www.csanjose.cl
"Somos buenos y queremos ser mejores"



Guía de aprendizaje Matemáticas 4° Básico

Horas, minutos y segundos

Observa resumen de los contenidos de estas últimas semanas.

El tiempo puede medirse mediante horas, minutos y segundos.

- 60 segundos equivalen a un minuto.
- 60 minutos equivalen a una hora.
- 24 horas equivalen a un día completo.

Puedes utilizar lo siguiente para establecer equivalencias entre las unidades de tiempo.



Selecciona la opción correcta


- ☐ 1 minuto equivale a 60 segundos.
- ☐ 120 segundos equivalen a 3 minutos.

¿Qué reloj registra una hora y media después de la hora indicada? Marca el reloj correcto.



Observa el afiche y luego responde.

QUE HORA ES?




Actividades	
9:00 - 9:30	Concentración.
9:30 - 12:00	Maratón.
12:00 - 14:00	Feria gastronómica.
14:00 - 14:30	Cierre.

1.- ¿Cuántos minutos tarda la concentración?

2.- ¿Cuántos minutos duro la maratón?

3.- ¿Cuántas hora dura en total la actividad del 28 de octubre?


¿Quién estudia más tiempo?



Yo estudio 90 minutos diarios.

Yo estudio 1 hora diaria.

¿Quién ve televisión más tiempo al día?



Yo veo televisión media hora diaria.

Yo veo 45 minutos de televisión al día.

Observa los relojes y completa cuanto tiempo ha transcurrido

a.



Han transcurrido minutos.

b.



Han transcurrido horas.

c.



Han transcurrido segundos.