

## Figuras planas

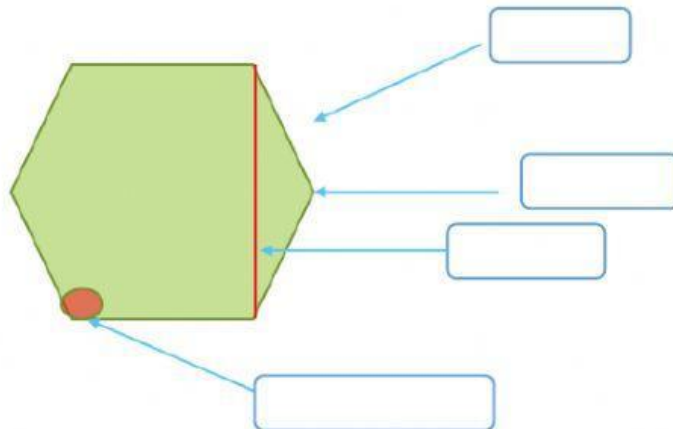
1- Coloca los nombres de las partes de un polígono.

ángulo interior

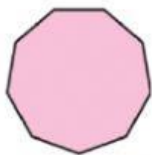
lado

diagonal

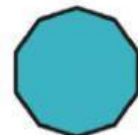

vértice



2- Une cada figura con su nombre.



eneágono
hexágono
triángulo
heptágono
pentágono
cuadrilátero
octógono
decágono



3- Completa la tabla.

Figura	Lados	Vértices	Nombre
