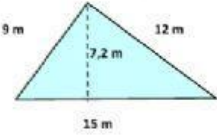


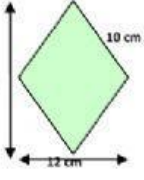

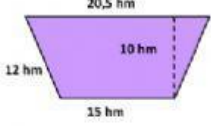
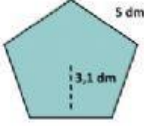
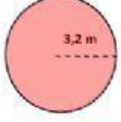


Calcula o perímetro e a área das seguintes figuras

O formato será: Quantidade(espazo branco)unidade. As unidades sen punto ao final e as unidades de superficie co formato m², cm², dam², km², etc...

			
<p>PERÍMETRO:</p> <p>ÁREA:</p>	<p>PERÍMETRO:</p> <p>ÁREA:</p>	<p>PERÍMETRO:</p> <p>ÁREA:</p>	<p>PERÍMETRO:</p> <p>ÁREA:</p>
			
<p>PERÍMETRO:</p> <p>ÁREA:</p>	<p>PERÍMETRO:</p> <p>ÁREA:</p>	<p>PERÍMETRO:</p> <p>ÁREA:</p>	<p>PERÍMETRO:</p> <p>ÁREA:</p>