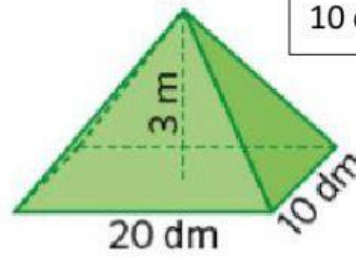
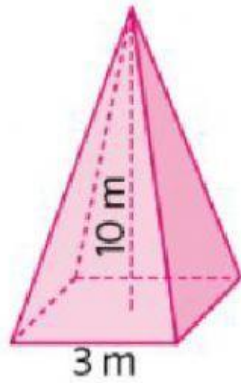


1. Calcula el volumen de estas pirámides.

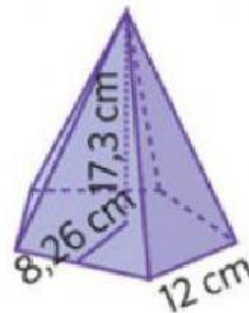
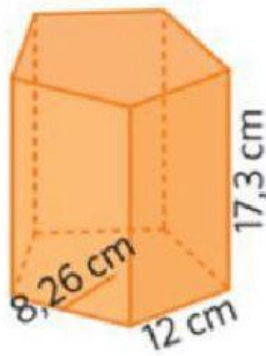


3m=	dm
20 dm=	m
10 dm=	m

Pirámide rosa=       $m^3$

Pirámide verde=       $m^3$

2. Halla el volumen de estas dos figuras.



El prisma, es un prisma

y tiene de volumen

$cm^3$

La pirámide, es una pirámide

y tiene de volumen

$cm^3$