



De salto en salto



Completá qué cálculo tenés que hacer para llegar al número indicado.

$$1.469 \text{ _____ } 1.569$$

$$23.295 \text{ _____ } 33.295$$




$$68.300 \text{ _____ } 67.300$$

$$61.100 \text{ _____ } 61.120$$

$$53.000 \text{ _____ } 50.000$$



Continuá las series.

	1.500	<input type="text"/>	<input type="text"/>	1.503	<input type="text"/>	<input type="text"/>
		+5 C				
	10.000	<input type="text"/>	<input type="text"/>	<input type="text"/>	<input type="text"/>	<input type="text"/>
	30.000	40.000	<input type="text"/>	<input type="text"/>	<input type="text"/>	<input type="text"/>



Completá los siguientes cálculos rápidos con el resultado o con una de las partes.

$$700 + 300 =$$

$$600 + \text{ _____ } = 1.000$$

$$5.000 + 5.000 =$$

$$\text{ _____ } + 2.000 = 10.000$$

$$15.000 + 15.000 =$$

$$30.000 + \text{ _____ } = 60.000$$