
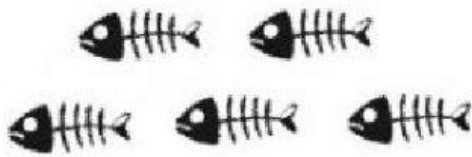
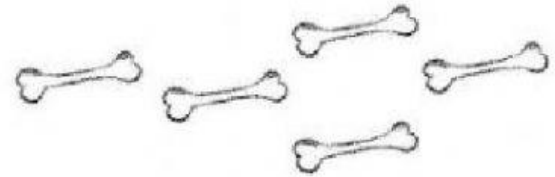
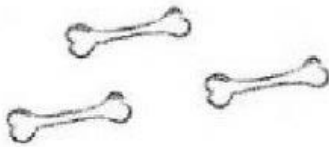


Max, el gatito, ayer comió 5 pescados y hoy se comió 4, ¿Cuántos pescados comió en total?




$$\square + \square = \square$$

El perro Toly ha encontrado 3 huesos. Los ha enterrado en su jardín. Al día siguiente ha encontrado otros 5 huesos y también los ha enterrado. ¿Cuántos tiene en total?



$$\square + \square = \square$$



A esta flor se le están cayendo los pétalos. Tiene 8 pétalos y se le han caído 6. ¿Cuántos pétalos le quedan?

$$\square - \square = \square$$