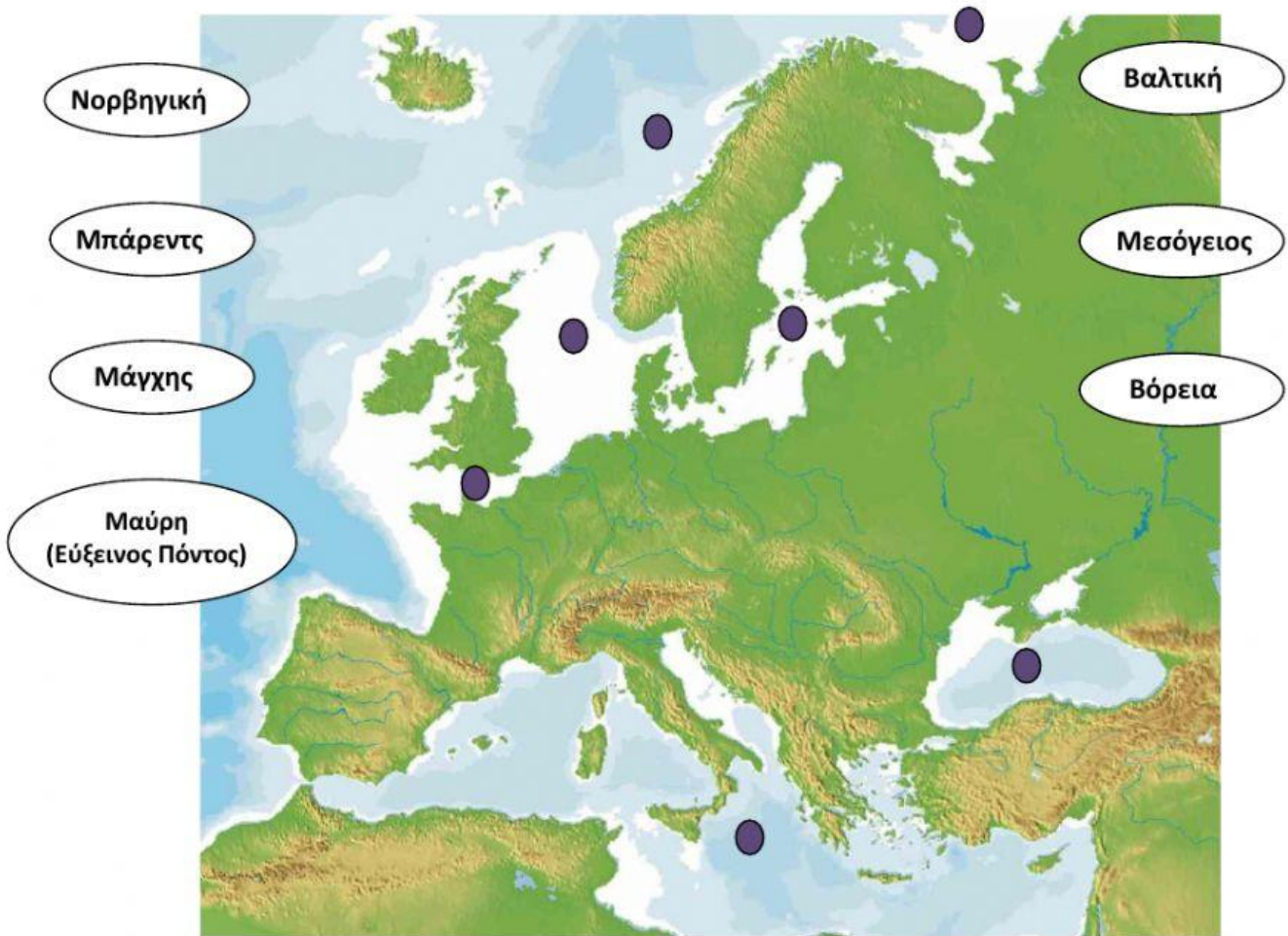


ΓΕΩΓΡΑΦΙΑ ΤΗΣ ΕΥΡΩΠΗΣ

Οριζόντιος και κατακόρυφος διαμελισμός της Ευρώπης

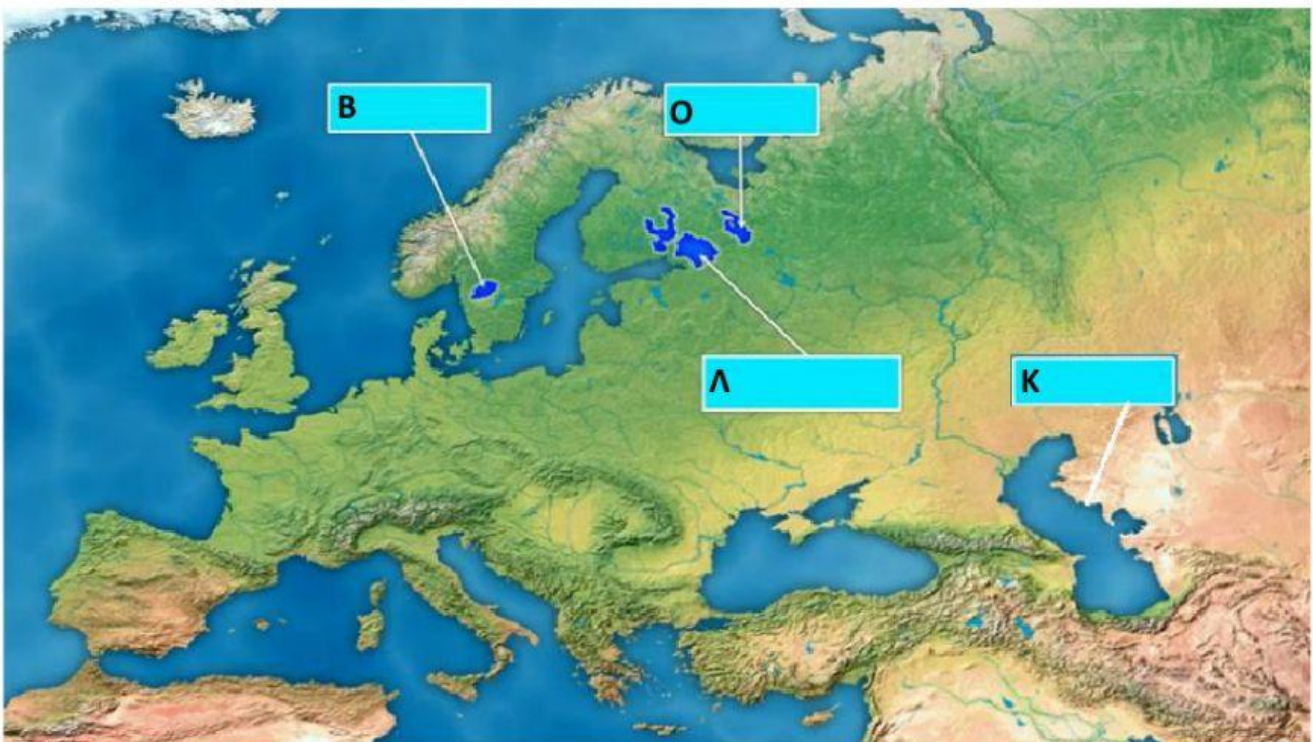
Ένωσε και δείξε στο χάρτη πού βρίσκεται καθεμιά από τις ευρωπαϊκές θάλασσες:



Βρες στο παρακάτω κρυπτόλεξο τα ονόματα 10 νησιών της Ευρώπης:

Μ	Α	Ε	Ι	Γ	Β	Κ	Ο	Ρ	Σ	Α	Ν	Τ	Ο	Ρ
Ε	Ι	Κ	Ρ	Η	Τ	Η	Ν	Ι	Ι	Η	Ο	Ο	Ω	Ι
Γ	Ο	Σ	Λ	Ε	Ρ	Ο	Λ	Ξ	Κ	Φ	Κ	Η	Β	Σ
Α	Λ	Π	Α	Ο	Ε	Φ	Ρ	Π	Ε	Ξ	Λ	Π	Κ	Λ
Λ	Ξ	Ρ	Ν	Ρ	Ν	Α	Κ	Δ	Λ	Λ	Ι	Θ	Η	Α
Η	Μ	Ο	Δ	Η	Δ	Λ	Α	Ξ	Ι	Π	Ο	Α	Ι	Ν
Β	Γ	Τ	Ι	Π	Π	Η	Π	Π	Α	Τ	Μ	Π	Θ	Δ
Ρ	Ο	Τ	Α	Η	Λ	Ν	Ν	Κ	Μ	Α	Σ	Γ	Ι	Ι
Ε	Τ	Ε	Σ	Τ	Η	Θ	Μ	Ι	Λ	Τ	Α	Μ	Δ	Α
Τ	Ρ	Σ	Ρ	Η	Ξ	Μ	Π	Μ	Α	Λ	Τ	Α	Γ	Ρ
Α	Ι	Α	Κ	Ο	Β	Α	Λ	Ε	Α	Ρ	Ι	Δ	Ε	Σ
Ν	Η	Ρ	Α	Γ	Υ	Λ	Ο	Β	Α	Ψ	Τ	Η	Θ	Φ
Ι	Ε	Τ	Ρ	Α	Γ	Τ	Κ	Ο	Ρ	Σ	Ι	Κ	Η	Λ
Α	Λ	Η	Ξ	Δ	Ε	Ο	Π	Υ	Ρ	Α	Π	Ρ	Φ	Α
Γ	Ρ	Ν	Ε	Ψ	Θ	Λ	Τ	Λ	Ξ	Λ	Λ	Κ	Α	Α
Α	Ξ	Ι	Λ	Θ	Κ	Υ	Π	Ρ	Ο	Σ	Κ	Η	Τ	Σ
Π	Λ	Α	Μ	Ν	Ι	Ζ	Ω	Ε	Ο	Λ	Κ	Ε	Μ	Ω

Βρες από το βιβλίο («Ταυτότητα της Ευρώπης») και γράψε τις μεγαλύτερες λίμνες (με κεφαλαία):



Γράψε στα κόκκινα κουτάκια το όνομα του κάθε ποταμού.
Τοποθέτησε τα μπλε στη σωστή θέση:

ΤΑΜΕΣΗΣ

ΣΗΚΟΥΑΝΑΣ

ΤΑΓΟΣ

ΕΛΒΑΣ

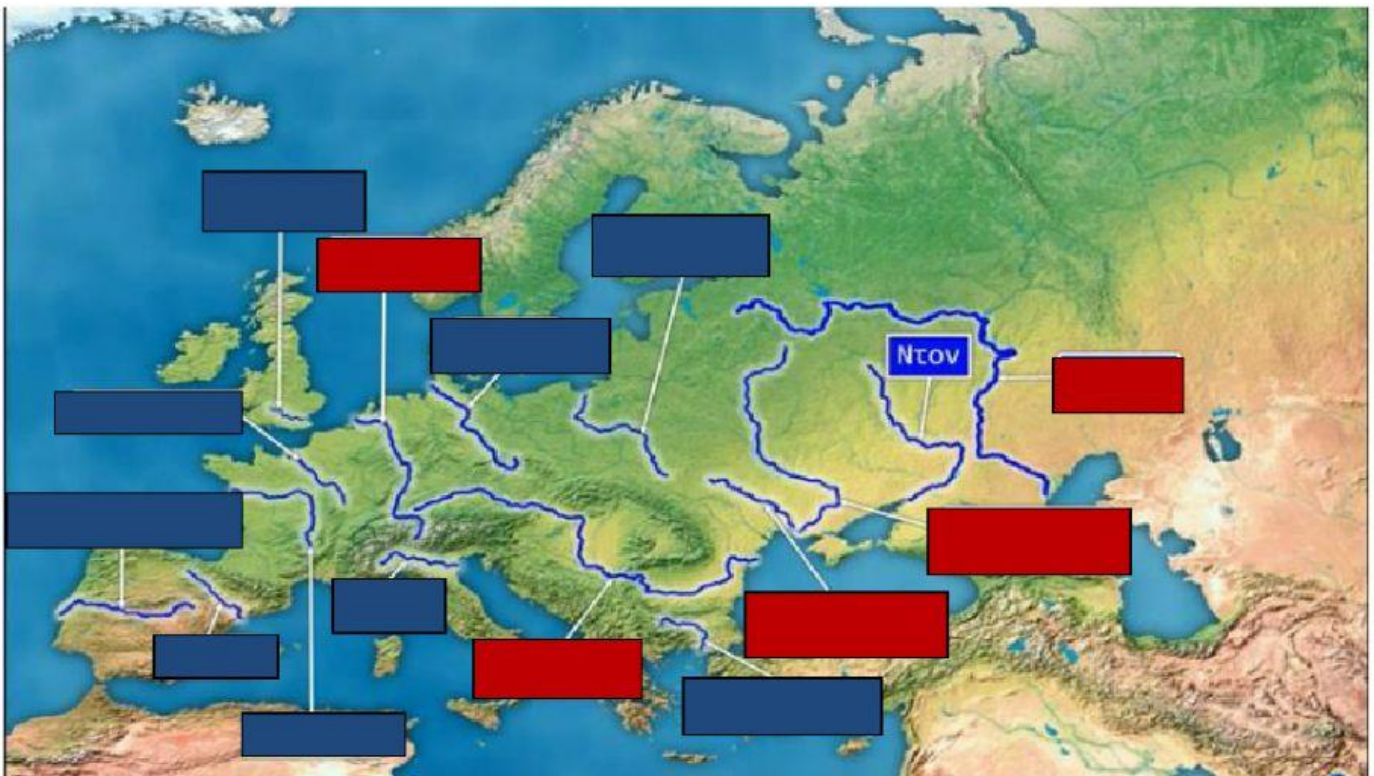
ΕΒΡΟΣ Ισπανίας

ΒΙΣΤΟΥΛΑΣ

ΠΑΔΟΣ

ΛΙΓΗΡΑΣ

ΕΒΡΟΣ Ελλάδας



Διάλεξε τη σωστή απάντηση και συμπλήρωσε τα κενά:

Η Ευρώπη έχει τέσσερις μεγάλες χερσονήσους. Η χερσόνησος αποτελείται από τη Νορβηγία και τη . Η χερσόνησος περιλαμβάνει την Ισπανία και την . Η Ιταλική χερσόνησος αποτελείται από την Ιταλία ενώ η χερσόνησος, που ονομάζεται και χερσόνησος του , περιλαμβάνει τις εξής χώρες(διάλεξε τα σωστά): Ελλάδα, Πολωνία, Αλβανία, Ουγγαρία, Βόρεια Μακεδονία, Βουλγαρία, Ρουμανία, Τσεχία, Κροατία, Σλοβενία, Σλοβακία, Σερβία, Γεωργία, Μαυροβούνιο, Βοσνία-Ερζεγοβίνη και Αρμενία.

Σύρε και τοποθέτησε τα παρακάτω βουνά στη σωστή θέση στο χάρτη:

▲ ▲ ▲ ▲ ▲ ▲

ΠΥΡΗΝΑΙΑ ΑΛΠΕΙΣ ΠΙΝΔΟΣ ΟΥΡΑΛΙΑ ΚΑΥΚΑΣΟΣ ΔΕΙΝΑΡΙΚΕΣ ΑΛΠΕΙΣ

▲ ▲ ▲ ▲

ΣΚΑΝΔΙΝΑΒΙΚΕΣ ΑΛΠΕΙΣ ΑΠΕΝΝΙΝΑ ΚΑΡΠΑΘΙΑ ΑΙΜΟΣ

