

Dossier scientifique : Les états de l'eau

1. Ecris, sous chaque photo, la forme que l'eau a prise.

la neige - la pluie - la grêle - la rosée



.....



.....



.....



.....

2. Coche les éléments à l'état liquide.

Du savon

☐

Du chocolat

☐

Du jus de fruit

☐

Du chocolat fondu

☐





Du savon de vaisselle





☐

3. Coche les deux éléments qui vont fondre sous l'effet de sa chaleur.



4. Observe les différentes situations. Que se passe-t-il ?

 <input type="checkbox"/> solide <input type="checkbox"/> liquide	 	 <input type="checkbox"/> solide <input type="checkbox"/> liquide
------------------------------------------------------------------------------------------------------------------------------------------------------------	-----------------------------------------------------------------------------------------------------------------------------------------------------------------------------	--------------------------------------------------------------------------------------------------------------------------------------------------------------

 <input type="checkbox"/> solide <input type="checkbox"/> liquide	 	 <input type="checkbox"/> solide <input type="checkbox"/> liquide
------------------------------------------------------------------------------------------------------------------------------------------------------------	-----------------------------------------------------------------------------------------------------------------------------------------------------------------------------	--------------------------------------------------------------------------------------------------------------------------------------------------------------

