



LKPD

TEMA 5 SUBTEMA 1

UNTUK KELAS 3 SEKOLAH DASAR

Three horizontal lines for writing, enclosed in a pink rounded rectangular box.



Petunjuk Penggunaan

1. Sebelum memulai kegiatan peserta didik berdoa menurut agama dan kepercayaan masing masing.
2. Guru memberikan link Lembar Kerja Peserta Didik (LKPD) elektronik kepada peserta didik
3. Peserta didik log in ke akun masing-masing dan menggunakan link yang telah dibagikan guru
4. Bacalah setiap petunjuk yang ada di dalam Lembar Kerja Peserta Didik Elektronik
5. Baca dan pahami KD, indikator dan tujuan kegiatan yang terdapat dalam LKPD
6. Pahami konsep yang mendukung pemahaman dengan materi yang berkaitan pada teori pendukung
7. Kerjakan LKPD Elektronik sesuai dengan tahapan-tahapan yang telah disediakan
8. Jawablah setiap soal dengan langsung dengan menggunakan android masing- masing peserta didik

KOMPETENSI DASAR DAN INDIKATOR



Muatan Bahasa Indonesia

3.3	Menggal informasi tentang perubahan cuaca dan pengaruhnya terhadap kehidupan manusia yang disajikan dalam bentuk lisan, tulis, visual dan eksplorasi lingkungan	3.3.1	Mengidentifikasi informasi tentang perubahan cuaca dan pengaruhnya terhadap kehidupan sehat dan sejahtera manusia yang disajikan dalam bentuk lisan, tulis, visual dan eksplorasi
4.3	Menyajikan hasil informasi tentang konsep perubahan cuaca dan pengaruhnya terhadap kehidupan manusia dalam bentuk tulis menggunakan kosakata baku dan kalimat efektif	4.3.1	Mengkomunikasikan hasil informasi tentang konsep perubahan cuaca dan pengaruhnya dalam kehidupan manusia (air dan energy) dalam bentuk tulisan menggunakan kosakata baku dan kalimat efektif

Muatan Matematika

3.4	Menggeneralisasi ide pecahan sebagai bagian dari keseluruhan menggunakan benda- benda konkret	3.4.1	Membedakan ide pecahan sebagai bagian dari keseluruhan menggunakan benda-benda konkret
4.4	Menyajikan pecahan sebagai bagian dari keseluruhan menggunakan benda-benda konkret	4.4.1	Menandai pecahan sebagai bagian dari keseluruhan menggunakan benda-benda konkret

Muatan SBDP

3.2	Mengetahui bentuk dan variasi pola irama dalam lagu	3.2.1	Mengidentifikasi bentuk dan variasi pola irama dan lagu
4.2	Menampilkan bentuk dan variasi irama melalui lagu	4.2.1	Mendiskusikan bentuk dan variasi irama lagu

Ayo Menulis



Pilihan anda mengenai keadaan cuaca berdasarkan gambar di bawah ini dan kemudian tuliskan apa yang dapat dipengaruhi terhadap lingkungan kehidupan oleh masing-masing cuaca tersebut!

Hujan

Cerah

Berawan

Cerah Berawan

Hujan disertai petir

Keadaan Cuaca

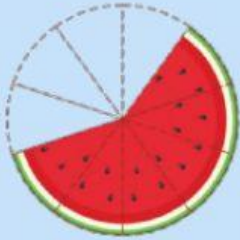

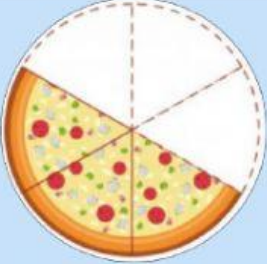

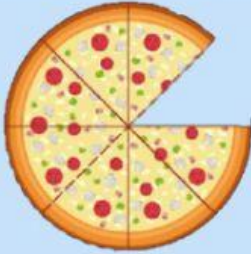
Simbol

Akibat





Buatlah nilai pecahan berdasarkan gambar di bawah ini dengan benar!

No	Gambar	Nilai Pecahan
1.		
2.		
3.		
4.		
5.		

Ayo Bernyanyi



Ayo amati dan bernyanyi lagu di bawah ini!



Catatlah lirik lagu “Guruku Tersayang”