




Instagram



1



Din ce număr scad pe 653 pentru a obține 168 ?

Rezolvare:

---

---

---

---

---

---




199 likes





Instagram



2



La ce număr adaug suma numerelor 213 și 584 pentru a obține 800 ?

Rezolvare:

---

---

---

---

---

---

---

---



199 likes





Instagram



3



Ce număr scad din suma vecinilor lui 316 pentru a obține 132 ?

Rezolvare:

---

---

---

---

---

---

---

---




199 likes





Instagram



4



Ce număr adaug la diferența dintre 707 și 529 pentru a obține 600 ?

Rezolvare:

Handwriting practice lines consisting of six horizontal bars. The top and bottom bars are yellow, and the four middle bars are orange.



199 likes





Instagram



5



Mă gândesc la un număr, adaug 235 și obțin răsturnatul lui 124. La ce număr m-am gândit ?

Rezolvare:

---

---

---

---

---

---




199 likes





Instagram



La predecesorul numărului 570 adaugă  
succesorul numărului 187 .

Rezolvare:

---

---

---

---

---



199 likes





Instagram



7



Din suma numerelor 285 și 379 scade diferența lor.

Rezolvare:





199 likes





Instagram



Din suma numerelor 367 și 288 scade cel mai mic număr par format din trei cifre identice.

Rezolvare:

Handwriting practice area with alternating yellow and orange horizontal lines.




199 likes







Instagram



La ce număr adaug cel mai mic număr impar format din trei cifre diferite , pentru a obține 999?

Rezolvare:




199 likes

