

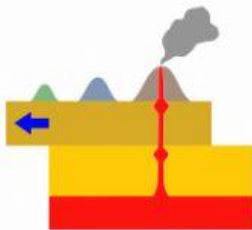
1. Associa la figura alla parola giusta:



HOT SPOT



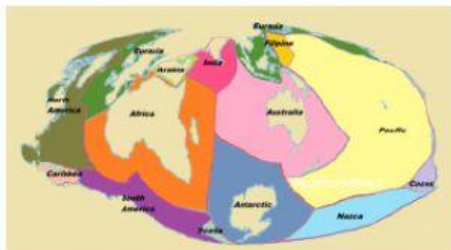
STRATOVULCANO



MAGMA



VULCANO A SCUDO



CRATERE



PLACCHE TERRESTRI

2. Riempi gli spazi con le parole giuste:

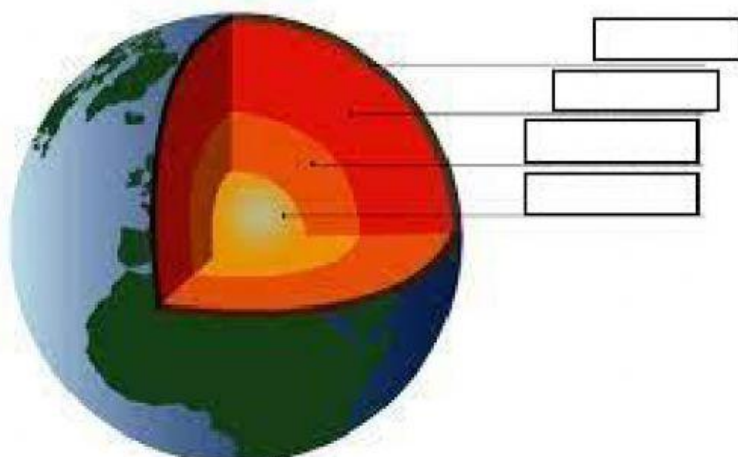
La crosta terrestre è lo strato più _____ e _____ del nostro pianeta. E' divisa in _____ parti che si chiamano _____ e _____. Il mantello si divide in mantello _____ e mantello _____. Il nucleo si divide in due parti: il nucleo _____ e il nucleo _____. Il nucleo è fatto in maggioranza da _____. Il nucleo interno è _____.

3. Clicca su VERO o FALSO

V F

La Terra è perfettamente tonda		
La crosta continentale è quella con le terre emerse (fuori dall'acqua)		
Nell'astenosfera ci sono i movimenti convettivi che fanno muovere le placche		
Il nucleo interno è liquido		
Nel nucleo interno la temperatura è tra i 5000°C e i 6000°C		
Il magma è roccia fusa senza gas		
La lava è roccia fusa senza gas		
Il camino è il canale dove il magma sale in superficie		
Le eruzioni esplosive sono quelle dei vulcani a scudo		
Gli stratovulcani hanno una lava molto densa		
L'ipocentro del terremoto è il punto sotto terra dove parte la scossa		

4. Collega la parola al riquadro giusto.



NUCLEO ESTERNO

NUCLEO INTERNO

CROSTA TERRESTRE

MANTELLO