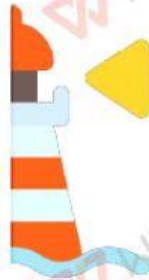




RAIO X

1. Une cada figura com a parte que lhe falta.



2. Quais são as figuras simétricas?





Revê sempre as tuas respostas antes de submeteres a tarefa.
Preenche a tua auto-avaliação.
Não te esqueças de entregar a tarefa online e verificar o resultado do teu RAIIO X.
Bom trabalho!

Questões	 Ótimo Parabéns	 BOM	MAIS OU MENOS 	RUIM 
Tive interesse em todas as atividades. -----				
Entreguei todas as atividades solicitadas.				
Minha participação durante as aulas				
Tirei todas as dúvidas com o professor(a) durante a realização das atividades.				
Consegui aprender os conteúdos.				

Enviar por e-mail
 Enviar por correio eletrónico
 Destinatário (nome) / Nº de identificação

 Assunto (opcional)

1.º e último nome
 2A
 MAT
 sonia.cardador@aeaugustocabrita.edu.pt