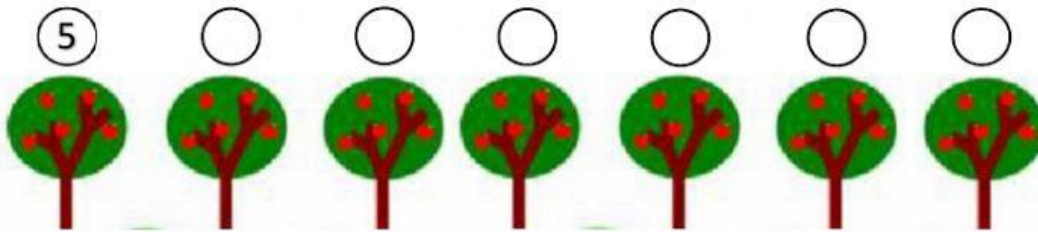


PROBLEMAS (III)

1. Hay 7 árboles con 5 manzanas en cada uno. ¿Cuántas manzanas hay?

Escribe el número de manzanas que hay en cada árbol.



$$\boxed{5} \circ \boxed{} = \boxed{}$$

Hay ____ manzanas.

2. Hay 6 bicicletas con 2 ruedas cada una ¿Cuántas ruedas hay?

Escribe el número de ruedas que tiene cada bicicleta.

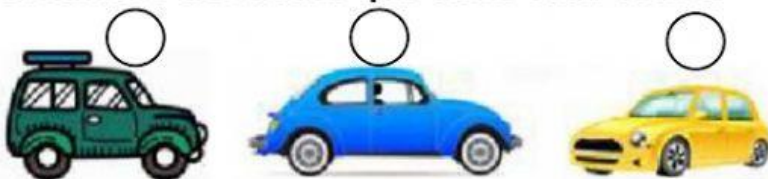


$$\boxed{} \circ \boxed{} = \boxed{}$$

Hay ____ .

3. Hay 3 coches con 4 ruedas cada uno. ¿Cuántas ruedas hay?

Escribe el número de ruedas que tiene cada coche.



$$\boxed{} \circ \boxed{} = \boxed{}$$

Hay ____ .

4. Hay 3 nidos con 5 huevos en cada uno. ¿Cuántos huevos hay?

Escribe el número de huevos que hay en cada nido.

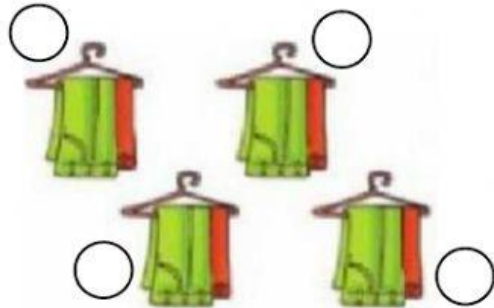


$$\square \circ \square = \square$$

Hay _____.

5. Mi abuela usó 4 perchas y colgó 2 pantalones en cada una de ellas. ¿Cuántos pantalones colgó mi abuela?

Escribe el número de pantalones que colgó mi abuela en cada percha.



$$\square \circ \square = \square$$

Mi abuela colgó _____.