

اسم الطالبة: .....

الصف: .....



ورقة عمل المهارات الرقمية – البرنامج  
المشترك- للصفين الخامس والسادس الابتدائي


عنوان الدرس: رسم مكعب

السؤال الأول: اختري الإجابة الصحيحة بوضع علامة (V) داخل الدائرة:

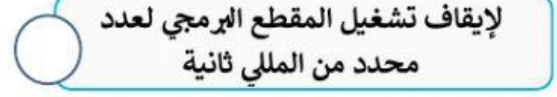
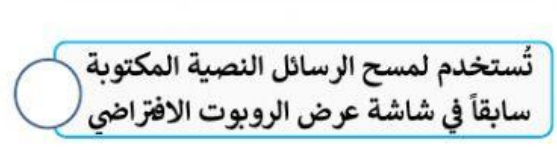
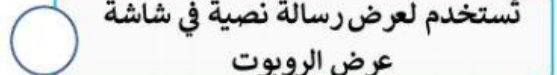
أ. الانتظار بالمللي ثانية ليكون ثانيتين:



ب. يمكنك إظهار شاشة عرض الروبوت من خلال الضغط على الأيقونة:



السؤال الثاني: صلي اللبنت مع وظائفها الصحيحة:



الدرجة

الوحدة الثالثة: برمجة الروبوتات